

# O-1



# T

T.C.  
MİLLÎ EĞİTİM BAKANLIĞI  
ÖLÇME, DEĞERLENDİRME VE SINAV HİZMETLERİ  
GENEL MÜDÜRLÜĞÜ

AÇIK ÖĞRETİM ORTAOKULU  
2014-2015 ÖĞRETİM YILI 2. DÖNEM SINAVI  
1. OTURUM: 22 MART 2015 Saat: 10.00

<u>DERSLER</u>	<u>SAYFA</u>	<u>DERSLER</u>	<u>SAYFA</u>
(501) TÜRKÇE – 5	2	(701) TÜRKÇE – 7	17
(502) MATEMATİK – 5	4	(702) MATEMATİK – 7	19
(503) FEN VE TEKNOLOJİ – 5	6	(703) FEN VE TEKNOLOJİ – 7	21
(604) SOSYAL BİLGİLER – 6	9	(806) TC İNK. TAR. VE ATATÜRK. – 8	24
(607) İNGİLİZCE – 6	11	(807) İNGİLİZCE – 8	26
(607) ALMANCA – 6	12	(807) ALMANCA – 8	27
(607) FRANSIZCA – 6	13	(807) FRANSIZCA – 8	28
(608) DİN KÜL. VE AHLAK BİLGİSİ – 6	15	(808) DİN KÜL. VE AHLAK BİLGİSİ – 8	30

#### ADAYLARIN DİKKATİNE!

- Her ders için **20** soru bulunmaktadır. Bu oturumda **150** dakikalık cevaplama süreniz vardır. Sınav başladıktan sonra ilk **30** dakika dolmadan dışarı çıkmayınız.
- Sınav sırasında sözlük, hesap cetveli veya makinesi, çağrı cihazı, cep telefonu, telsiz, radyo gibi elektronik iletişim araçlarını yanınızda bulundurmuyunuz. Bu araçları kullanmanız ve kopya çekmeye teşebbüs etmeniz hâlinde sınavınız geçersiz sayılacaktır.
- Başvuru şartlarını taşımadığınız hâlde sınava girmeniz, kopya çekmeniz, başka adayın sınav evrakını kullanmanız, geçerli kimlik belgenizi ve sınav giriş belgenizi ibraz edemediğiniz durumlarda sınavınız geçersiz sayılacaktır.
- Sınavın değerlendirilmesi aşamasında, bilgisayar ortamında yapılan kopya analizinde ikili veya toplu kopya tespiti hâlinde sınavınız geçersiz sayılacaktır.

#### CEVAP KÂĞIDI VE SORU KİTAPÇIĞI İLE İLGİLİ AÇIKLAMALAR

- Cevap kâğıdınızdaki bilgilerin doğruluğunu kontrol ediniz ve cevap kâğıdınızı mürekkepli kalemle imzalayınız.
- Cevap kâğıdı üzerinde kodlamalarınızı kurşun kalemle yapınız.
- Değiştirmek istediğiniz bir cevabı, yumuşak silgiyle cevap kâğıdını örselemeden temizce siliniz ve yeni cevabınızı kodlayınız.
- Soru kitapçığının sayfalarını kontrol ediniz, baskı hatası var ise değiştirilmesini sağlayınız.
- Soruların çözümü için size ayrıca boş kâğıt verilmeyecektir. Soru kitapçığının içindeki boş alanları soru çözümleri için kullanabilirsiniz.
- Her sorunun dört seçeneğinden sadece biri doğrudur. Doğru seçeneği, cevap kâğıdınızın ilgili sütununa soru numarasını dikkate alarak yuvarlağın dışına taşırmadan kodlayınız. **Soru kitapçığı üzerinde yapılan cevaplandırmalar dikkate alınmayacaktır.**
- Cevaplamaya istediğiniz dersin sorusundan başlayabilirsiniz. Cevabını bilmediğiniz sorular üzerinde fazla zaman kaybetmeden diğer sorulara geçiniz. Zamanınız kalırsa bu sorulara daha sonra dönebilirsiniz.
- Yanlış cevaplarınız dikkate alınmadan sadece doğru cevaplarınız üzerinden puanlama yapılacaktır.
- Soruları ve sorulara verdiğiniz cevapları, yanınızda götürmek amacıyla kaydetmeyiniz; hiçbir şekilde dışarı çıkarmayınız.
- Sınav bitiminde, soru kitapçığı ve cevap kâğıdını salon görevlilerine teslim ediniz.**

**BAŞLAYINIZ DENİLMEYEN SORU KİTAPÇIĞINI AÇMAYINIZ.**

# 1. OTURUM

(501) TÜRKÇE – 5

1. Aşağıdaki kelimeler alfabetik sıraya göre dizildiğinde hangisi, en sonda yer alır?

- A) Gözlemek                      B) Gözlem  
C) Gözetim                        D) Gözcülük

2. “Basmak” sözcüğü aşağıdaki cümlelerin hangisinde “örtmek, bürümek, kaplamak” anlamında kullanılmıştır?

- A) Senin bastığın yerlerde güller açtı.  
B) Bu büyüü köşkün yollarını ot basmıştı.  
C) On dokuz yaşına yeni basmış bir gençti.  
D) Bana söylenen yere başparmağımı bastım.

3. “Yanmak” sözcüğü aşağıdakilerin hangisinde mecaz anlamıyla kullanılmıştır?

- A) Bu yaz, tatil yapamayacağıma yanıyorum.  
B) Gece oldu, ışıklar bir bir yandı.  
C) Odamız yaz günleri çinko damın altında yanar.  
D) Kışın kara gömüldük, yazın güneşte yandık.

4. “Açık pencereden pastırma yazının mavi ışıkları giriyordu.” cümlesindeki “açık” sözcüğünün zıt anlamlısı aşağıdakilerin hangisinde kullanılmıştır?

- A) Ağaçlı yol dış kapıya kadar uzanıyordu.  
B) Heyecandan aynı cümleleri tekrarlayarak konuştu.  
C) Vaktini babamın verdiği kitapları okuyarak geçiriyordu.  
D) Kapalı gözlerinin arkasında ışığı görebiliyordum.

5. “Ağaç güneşte serpilir ... toprağın derinliklerindeki kökü ile beslenir.”

Bu cümlede üç nokta ile belirtilen yere düşüncenin akışına göre aşağıdaki sözcüklerden hangisi getirilemez?

- A) fakat                              B) ancak  
C) için                                 D) ama

6. 1. deniz  
2. ceplerinde  
3. elleri  
4. dolaşır  
5. kenarında

Numaralandırılmış sözcükler, anlamlı ve kurallı bir cümle oluşturmak için nasıl sıralanmalıdır?

- A) 2, 3, 1, 4, 5                      B) 3, 2, 1, 5, 4  
C) 5, 1, 4, 2, 3                      D) 4, 3, 2, 5, 1

7. Kahvaltıdan sonra kalabalık bir aile topluluğu hâlinde bayram alışverişi yapmak için çıktılar.

Bu cümlede aşağıdaki sorulardan hangisinin cevabı yoktur?

- A) Nasıl                                B) Niçin  
C) Ne zaman                         D) Ne

8. Aşağıdaki cümlelerin hangisinde sebep-sonuç ilişkisi vardır?

- A) Sevgiyle yapılan her şey bize dönecektir.  
B) Hava çok soğuk olduğu için sobayı yaktı.  
C) Aydınlık bir güne uyanmak istiyordu.  
D) Dikkatini üzerime çekmeye çalışıyordu.

9. “Kişi kendisine ait olmayan bir şeyle çıkar elde etse bile, bu geçici bir durumdur.” anlamında kullanılan atasözü aşağıdakilerden hangisidir?

- A) El eli yıkar, el de yüzü.  
B) El elden üstündür.  
C) El ile gelen düşün bayram.  
D) El atına binen tez iner.

10. Aşağıdaki cümlelerin hangisinde duygusal bir öge vardır?

- A) Bu apartmandan ayrılıyor olmanıza çok üzüldük.  
B) Hısım akraba bayram günü köyde toplandık.  
C) Yağmur, hızını şimdi daha da arttırmıştı.  
D) Kaldıkları otelin karşısındaki kahve hep kalabalıktı.

# 1. OTURUM

11. (1) Sinemamızın en önemli sanatçısıdır o. (2) Oynadığı sayısız filmle, izleyicinin gönlünde ayrı bir taht kurmuştur. (3) Tam 142 filmde rol almıştır. (4) Türkiye’de sinema denince akla ilk gelen isimdir.

Numaralandırılmış cümlelerin hangisinde nesnel bir yargı vardır?

- A) 1 B) 2 C) 3 D) 4

12. 1. Kavanozu Can’ın yatağının yanında görünce “Can bu ne?” diye soruyor.  
2. Annesi “Yürüyen kavanozumuz var öyle mi?” diyerek şaşırıyor.  
3. Can kavanozun ayaklanıp odasına geldiğini söylüyor.  
4. Annesi sofrayı toplarken şeker kavanozunun yerinde olmadığını fark ediyor.  
5. Kavanozun nerede olduğunu düşünürken iyi geceler dilemek için Can’ın yanına gidiyor.  
6. Can’ın karnı ağrıyor ve en sevdiği yemeği yemeden masadan kalkıyor.

Numaralandırılmış cümleler, olayların oluş sırasına göre nasıl sıralanmalıdır?

- A) 4, 6, 3, 1, 2, 5 B) 6, 4, 5, 1, 3, 2  
C) 3, 2, 4, 5, 6, 1 D) 1, 3, 5, 2, 6, 4

13. Bu sabah mutluluğa aç pencereni  
Bir güzel arın dünkü kederinden  
Bahar geldi güneşin doğduğu yerden  
Çocuğum uzat ellerini.

Bu şiirin ana duygusu aşağıdakilerden hangisidir?

- A) Kaygı B) Merak C) Umut D) Yalnızlık

14. Şimşekler ve yıldırımlar, en güzel ve görkemli doğa olaylarından biridir. Ne var ki bazılarımız yıldırımları ve şimşekleri hayranlıkla izlerken bazılarımız neden oldukları gökgürültüsünden korkarız. Aslında yıldırım ve şimşekler, bildiğimiz elektrik akımından başka bir şey değildir.

Bu metinde yıldırım ve şimşeklerle ilgili aşağıdakilerden hangisine değinilmemiştir?

- A) Neden oldukları gökgürültüsünden bazılarının korktuğuna  
B) Görkemli doğa olaylarından olduklarına  
C) Kendisini izleyen insanları büyülediğine  
D) Bir elektrik akımı olduklarına

15. “Doğanın insanlara en adilce dağıttığı nimet akıldır.” derler. Çünkü hiç kimse akıl payından şikâyetçi değildir. Nasıl olsun? İnsanın aklını beğenmemesi için aklından ötesini görebilmesi gerekir. Ben düşüncelerimin doğru olduğunu sanıyorum ama öyle sanmayan var mı?”

Bu metinde akılla ilgili asıl anlatılmak istenen aşağıdakilerden hangisidir?

- A) Her insan kendi tutumunu, düşüncelerini başkalarınınkinden daha üstün görür.  
B) İyi düşünmeden verdiğimiz kararın kötü sonuçlarını düzeltmek için yorulmak zorunda kalırız.  
C) Daha az düşünen ama çabuk karar veren kimse, çok düşünüp de karar vermeyen kimseden daha iyi iş görür.  
D) Bir kimsenin giriştiği bütün işlerde en büyük etken akıldır.

16. Aşağıdaki sözcüklerden hangisi aldığı ekten dolayı yeni bir anlam kazanmamıştır?

- A) Gazetede B) Yardımcı  
C) Sarılık D) Güçsüz

17. Aşağıdaki altı çizili sözcüklerden hangisi “devam eden bir eylem”i ifade eder?

- A) Bir saat sonra bakkalın önünde buluşalım.  
B) Masadaki yemekleri bir solukta yiyip bitirdi.  
C) Duvardaki tabloların hepsini ben kaldırdım.  
D) Bütün şehre incecikten bir kar yağıyor.

18. “Çayırıları çimenleri, çimenlerdeki ak kuzuları boyamaya koyuldu. Gümüş suların aktığı ovaları karanfillerle süsledi. Dört köşeye de birer yarım ay konurdu.”

Bu metindeki altı çizili sözcüklerden hangisi bir varlığı nitelemiştir?

- A) Çimenleri B) Ak  
C) Karanfillerle D) Ay

19. Aşağıdaki cümlelerin hangisinde “-mı / -mi”nin yazımıyla ilgili bir yanlışlık yapılmıştır?

- A) Ben seni bunun için mi gönderdim?  
B) Ahmet dün İstanbul’dan geldi mi?  
C) Bunu sana defalarca hatırlatmadı mı?  
D) Masanın üstündeki vazoyu İlker mi kırdı?

# 1. OTURUM

20. "Bu bahçede bir sürü meyve ağacı var( ) elma( ) dut( )"

Bu cümlede yay ayrıla belirtilen yerlere, sırasıyla aşağıdaki noktalama işaretlerinden hangileri getirilmelidir?

- A) (!) (,) (.) B) (,) (,) (...)  
C) (,) (;) (.) D) (:) (,) (...)

## (502) MATEMATİK – 5

1. 125 497 645 sayısının binler ve milyonlar bölümünün yerleri değiştirildiğinde elde edilen sayı aşağıdakilerden hangisidir?

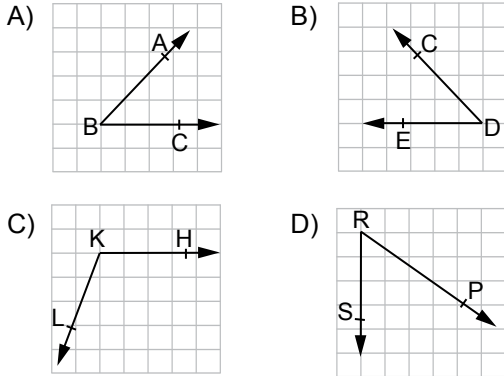
- A) 497 125 645 B) 497 645 125  
C) 125 645 497 D) 645 497 125

2. Yandaki toplama işleminde  yerine aşağıdaki sayılardan hangisi yazılmalıdır?

$$\begin{array}{r} \square \\ + 4944 \\ \hline 8649 \end{array}$$

- A) 1239 B) 3705 C) 4045 D) 13 593

3. Aşağıdakilerden hangisi geniş açıdır?



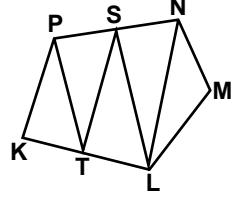
4. Aşağıdakilerden hangisi 64 sayısının üslü gösterimlerinden biri değildir?

- A)  $6^4$  B)  $8^2$  C)  $2^6$  D)  $64^1$

5.  $\frac{2}{3}, \frac{1}{18}, \frac{4}{9}$  kesirlerinin doğru sıralanışı aşağıdakilerden hangisidir?

- A)  $\frac{1}{18} > \frac{4}{9} > \frac{2}{3}$  B)  $\frac{2}{3} > \frac{4}{9} > \frac{1}{18}$   
C)  $\frac{4}{9} > \frac{2}{3} > \frac{1}{18}$  D)  $\frac{2}{3} > \frac{1}{18} > \frac{4}{9}$

6. Aşağıdaki doğru parçalarından hangisi verilen KLMNP çokgeninin bir köşegenidir?



- A) [PT] B) [TS] C) [SL] D) [LN]

7.  $(18 + 3) \times 21$  işleminin sonucu kaçtır?

- A) 81 B) 381 C) 441 D) 451

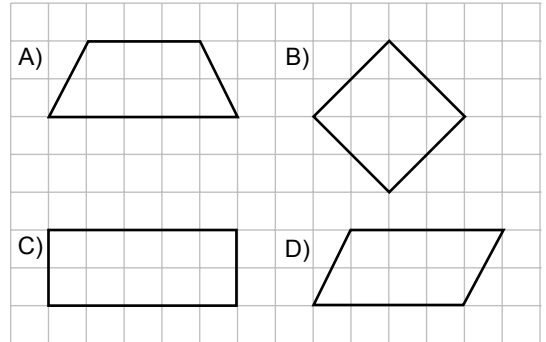
8.  $\frac{5}{100}$  kesrinin yüzde sembolü ile gösterimi aşağıdakilerden hangisidir?

- A) % 0,05 B) % 0,5 C) % 5 D) % 50

9. 5,016 ondalık gösteriminin kesir olarak ifadesi aşağıdakilerden hangisidir?

- A)  $\frac{516}{1000}$  B)  $\frac{5016}{100}$  C)  $\frac{516}{10}$  D)  $\frac{5016}{1000}$

10. Aşağıdaki şekillerden hangisi paralelkenar değildir?

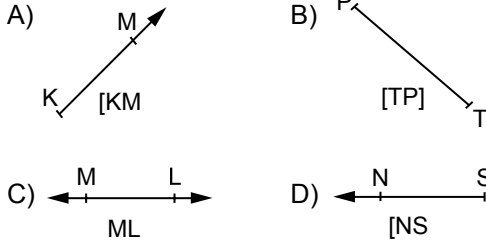


11. Emre bir damacana suyun ilk gün  $\frac{5}{16}$ 'ini, ikinci gün  $\frac{3}{8}$ 'ünü kullandı. Emre iki günde bir damacana suyun kaçta kaçını kullanmıştır?

- A)  $\frac{8}{16}$  B)  $\frac{11}{16}$  C)  $\frac{15}{24}$  D)  $\frac{8}{24}$

# 1. OTURUM

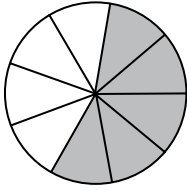
12. Aşağıdakilerden hangisinin sembolik gösterimi hatalıdır?



13.  $2,07 - 1,175$  işleminin sonucu kaçtır?

- A) 0,32    B) 0,895    C) 0,905    D) 1,905

14.



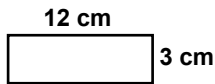
Aşağıdaki kesirlerden hangisi şekildeki boyalı bölgeyi ifade eden kesre denktir?

- A)  $\frac{4}{5}$     B)  $\frac{10}{5}$     C)  $\frac{15}{27}$     D)  $\frac{10}{36}$

15.  $750 \text{ cm} + 200 \text{ mm}$  işleminin sonucu kaç metredir?

- A) 27,5    B) 7,52    C) 7,7    D) 9,5

16.



Şekildeki dikdörtgenle eşit alana sahip olan bir dikdörtgenin kenar uzunluklarından ikisi aşağıdakilerden hangisi olabilir?

- A) 2 cm ve 18 cm    B) 4 cm ve 8 cm  
C) 5 cm ve 6 cm    D) 3 cm ve 11 cm

17. 10.45'i gösteren bir saat, 3 saat 57 dakika sonra kaç gösterir?

- A) 14.45    B) 14.42    C) 06.48    D) 06.45

18. Ayrıtlarının uzunlukları 5 cm, 7 cm ve 10 cm olan dikdörtgenler prizması şeklindeki bir ilaç kutusunun yüzey alanı kaç santimetrekaredir?

- A) 88    B) 155    C) 256    D) 310

19. Annesi Ayşe'yi okula yazdıracaktır. Aşağıdaki sorulardan hangisi, Ayşe'nin annesinin okul seçiminde soracağı bir araştırma sorusu değildir?

- A) Okulun duvarları ne renktir?  
B) Öğretmenleri deneyimli midir?  
C) Okulda sağlık personeli var mıdır?  
D) Okulda yapılan sosyal etkinlikler nelerdir?

20. Tablo: Bir Okulda Spor Kurslarına Katılan Öğrencilerin Sayıları

Kurslar	Öğrenci Sayısı
Futbol	### ### II
Basketbol	### IIII
Voleybol	### II
Tenis	IIII

Verilen tabloya göre aşağıdaki ifadelerden hangisi yanlıştır?

- A) Voleybol kursuna 7 kişi katılmıştır.  
B) En çok tercih edilen kurs futbol kursudur.  
C) Kursların tamamına toplam 32 kişi katılmıştır.  
D) Basketbol ve tenis kursuna katılanların toplamı futbol kursuna katılanlardan azdır.

# 1. OTURUM

## (503) FEN VE TEKNOLOJİ – 5

1. Günlük yaşamdan bazı örnekler aşağıda verilmiştir.

I. Kapı menteşelerine makine yağı sürülmesi

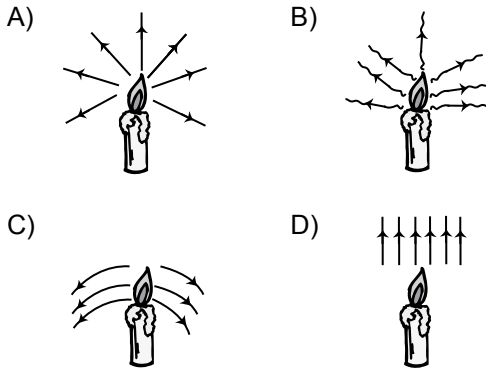
II. Kaleci eldivenlerinin iç yüzeyinin pürüzlü olması

III. Paraşütün yüzey alanının geniş olması

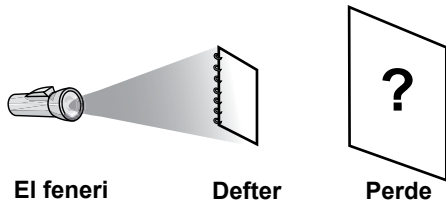
Buna göre örneklerin hangilerinde sürtünme kuvvetinin, hareketi engelleyici etkisi vardır?

- A) Yalnız I                      B) Yalnız II  
C) I ve III                      D) II ve III

2. Bir mumdan çıkan ışığın izlediği yol aşağıdakilerin hangisinde doğru çizilmiştir?



3. El feneri, defter ve perde kullanılarak şekildeki gibi bir deney düzeneği hazırlanmıştır.



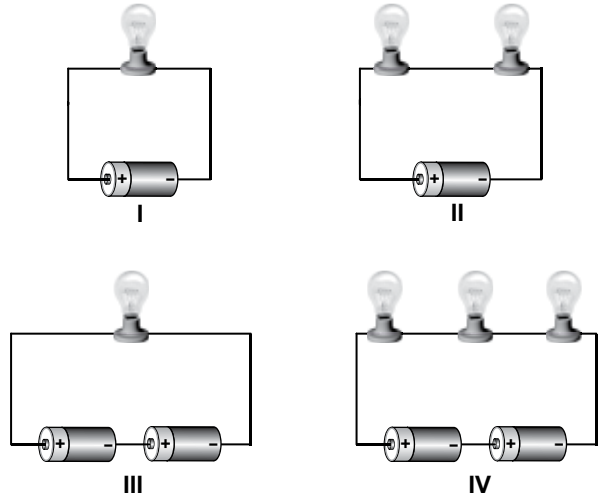
Bu düzeneğe göre, perdenin üzerinde tam gölge oluşur mu? Neden?

- A) Oluşur, çünkü defter saydam maddedir.  
B) Oluşmaz, çünkü defter yarı saydam maddedir.  
C) Oluşur, çünkü defter saydam olmayan maddedir.  
D) Oluşmaz, çünkü defter saydam olmayan maddedir.

4. Aşağıdaki olayların hangisinde oluşan ses önce katı, sonra gaz ortamlarda yayılır?

- A) Durgun suya taş atılması  
B) Davula tokmak ile vurulması  
C) Balinaların birbirleriyle iletişim kurması  
D) İki taşın su içerisinde birbirine vurulması

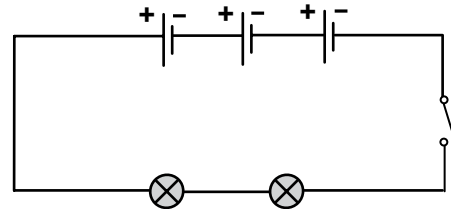
5. Basit bir elektrik devresinde pil sayısının lamba parlaklığına olan etkisini araştırmak isteyen Ayşe, şekillerdeki gibi aynı pil ve lambalardan oluşan elektrik devrelerini kuruyor.



Buna göre Ayşe, hangi iki devredeki lamba parlaklığını karşılaştırırsa amacına ulaşır?

- A) I ve II                      B) I ve III  
C) II ve IV                      D) III ve IV

6. Şekilde basit bir elektrik devresi görülmektedir.



Bu devredeki lamba ve pil sayısı aşağıdakilerin hangisinde doğru verilmiştir?

	Lamba sayısı	Pil sayısı
A)	3	2
B)	4	3
C)	2	6
D)	2	3

# 1. OTURUM

7. Emre sınıfta yaptığı sunumda aşağıdaki örnekleri vermiştir.

Manavgat Şelalesi	Peribacaları	Karain Mağarası
-------------------	--------------	-----------------

Buna göre Emre'nin sunum konusu hangisidir?

- A) Doğal anıtlar  
B) Madenler  
C) Fosiller  
D) Yer üstü suları

8. Erozyonun gelecekte yol açabileceği olumsuz sonuçlarla ilgili olarak öğrencilerin yorumları aşağıdaki gibidir.

Bitki örtüsünü zayıflatır.



Aykut

Verimli tarım arazilerinin kaybedilmesine neden olur.



Betül

Barajların su tutma kapasitesini azaltır.



Cihan

Can ve mal kaybına neden olur.



Derya

Buna göre hangi öğrencinin yorumu yanlıştır?

- A) Aykut  
B) Betül  
C) Cihan  
D) Derya

9. Aşağıdakilerden hangisi sularımızın doğrudan kirlenmemesi için alınması gereken önlemlerden biridir?

- A) Kaçak kömür kullanımının engellenmesi  
B) Toplu taşıma araçlarının tercih edilmesi  
C) Fabrika atıkları için arıtma tesisleri kurulması  
D) Tarım ilaçları ve gübrelerin bilinçli kullanılması

10. Futbol maçı yaparken terlediği için forması ıslanan Ali, maç bittikten bir süre sonra üşüdüğünü hissetmiştir.

Buna göre, Ali'nin üşümesinin sebebi aşağıdakilerden hangisidir?

- A) Donma olayının gerçekleşmesi  
B) Yoğuşma olayının gerçekleşmesi  
C) Terde bulunan suyun, vücuttan ısı alması  
D) Terde bulunan suyun, çevreye ısı vermesi

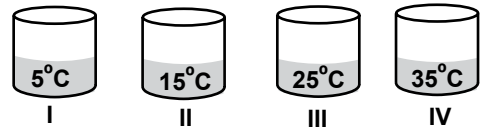
11. Bazı saf maddelerin erime noktaları aşağıdaki tabloda verilmiştir.

Saf Madde	Erime Noktası (°C)
Tuz	801
Çinko	420
Şeker	185
Buz	0

Eşit kütlelerde alınıp, aynı tür kaplara konulan ve aynı ısı kaynağı ile ısıtılan bu maddelerden hangisi en geç erir?

- A) Tuz  
B) Çinko  
C) Şeker  
D) Buz

12. Şekildeki gibi birbiri ile her bakımdan aynı olan kaplarda, aynı miktarda ve farklı sıcaklıkta su bulunmaktadır.



Bu kaplar 25°C sıcaklıktaki bir odaya bırakıldığında, hangi kaptan odaya ısı aktarımı olur?

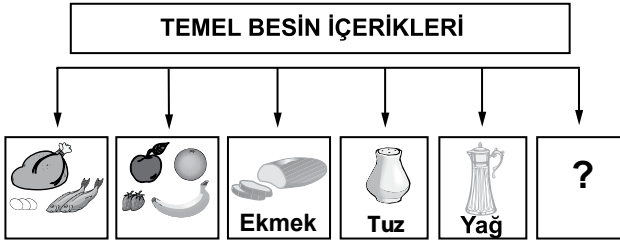
- A) I  
B) II  
C) III  
D) IV

13. Soğuk betonun üzerine bırakılan şişirilmiş balonda birkaç gün sonra aşağıdaki değişimlerden hangisi meydana gelir?





- A) Havası iner, çünkü hacmi artar.  
B) Havası iner, çünkü büzülür.  
C) Patlar çünkü, hacmi azalır.  
D) Daha çok şişer, çünkü genişler.

# 1. OTURUM

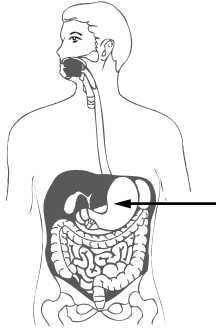
14. Öğrenciler "Temel Besin İçerikleri"ni şekildeki gibi gruplayıp, her gruba örnek resim yapıştı-  
rıyorlar.



Buna göre "?" ile belirtilen gruba uygun resim aşağıdakilerden hangisidir?

- A)  B)   
Süt
- C)  D)   
Peynir

15. Sınıfta yaptığı sunumda, şekilde işaretlenen organın görevini anlatan bir öğrenci aşağıdaki-  
lerden hangisini söylemelidir?



- A) Bütün besinlerin parçalanıp öğütülmesini sağlar.  
B) Besinlerin yutağa geçişini sağlar.  
C) Sindirilen bütün besinleri kana geçirir.  
D) Parçalanmış besinleri karıştırıp bir süre depolar.

16. Boşaltım sistemi hastalıklarından biri de böbrek yetmezliğidir. Aşağıdakilerden hangileri böb-  
rek yetmezliğinde görülen durumlardandır?

- I. Atık maddelerin vücutta birikmesi  
II. Fazla suyun vücutta kalması  
III. Kan basıncının artması

- A) Yalnız I B) I ve II  
C) II ve III D) I, II ve III

17. Canlı kişilerden organ nakli, organ veren kişinin yaşamını riske sokmayacak şekilde çift organ-  
lardan birinin veya organ parçasının alınması  
şeklindedir.

Aşağıdakilerden hangisinin nakli bu kurala uygun değildir?

- A) Kalp  
B) Böbrek  
C) Parça olarak karaciğer  
D) Parça olarak pankreas

18. ●, toprağa tutanarak yaşayabilir.

■, canlılarda hastalıklara yol açabilir.

★, besinler üzerinde çoğalıp onları çürütür.

Özellikleri ifade edilen ve ●, ■ ve ★ ile göste-  
rilen mantar türleri aşağıdakilerin hangisinde  
verilmiştir?

- |    | ●       | ■       | ★       |
|----|---------|---------|---------|
| A) | Küf     | Şapkalı | Parazit |
| B) | Şapkalı | Parazit | Küf     |
| C) | Parazit | Şapkalı | Küf     |
| D) | Küf     | Parazit | Şapkalı |

19. • Kaktüs, çöl ortamında yaşar. Yaprakları  
diken şeklinde olup fazla su kaybetmez.  
• Yağmur ormanlarında, geniş yapraklı bitkiler  
bulunur.

Verilen bilgilerden aşağıdakilerden hangisine  
ulaşılır?

- A) Bitkiler besin yaparken güneş ışığından fayda-  
lanırlar.  
B) Bazı bitkiler her ortamda yaşamını sürdürebilir.  
C) Bitkiler buldukları ortamdaki yaşama uygun  
özelliklere sahiptir.  
D) Kurak ortamdaki bitkiler, nemli ortamdaki bitki-  
lerden daha dayanıksızdır.



# 1. OTURUM

20. Ahmet, yaşadığı bölgedeki çevre sorunları ve sonuçlarını aşağıdaki gibi tabloya yazıyor.

Çevre sorunları	Sonuçları
Hava kirliliği	
Su kirliliği	
Orman yangınları	

Buna göre Ahmet aşağıdaki sonuçlardan hangisini "Sonuçları" kısmına yazmamalıdır?

- A) İnsanlarda akciğer hastalıklarının artması  
B) Bazı hayvan türlerinin başka bölgelere gitmesi  
C) Bazı balık türlerinin yok olması  
D) Bitki ve hayvan çeşitliliğinin artması

## (604) SOSYAL BİLGİLER – 6

1. I. En kolay ders Sosyal Bilgilerdir.  
II. Türklerin ana yurdu Orta Asya'dır.  
III. Satuk Buğra Han Karahanlı hükümdardır.  
IV. Türkiye'nin en güzel bölgesi Karadeniz Bölgesi'dir.

Verilen cümleler aşağıdakilerin hangisinde "Olgu" ve "Görüş" olarak doğru sınıflandırılmıştır?

	I	II	III	IV
A)	Görüş	Görüş	Olgu	Olgu
B)	Olgu	Olgu	Görüş	Olgu
C)	Olgu	Görüş	Görüş	Olgu
D)	Görüş	Olgu	Olgu	Görüş

2. Kanun ve yasalara uymak, vergi vermek ve askere gitmek, aşağıdaki kavramlardan hangisiyle doğrudan ilgilidir?

- A) Hak  
B) İnanç  
C) Özgürlük  
D) Sorumluluk

3. Leyla, ecdadını tanımak için aşağıdaki alanların hangisinde yazılmış eserler okumalıdır?

- A) Fizik  
B) Tarih  
C) Psikoloji  
D) Biyoloji

4. "Haritalarda gördüğümüz yatay çizgilere .....I....., dikey çizgilere de .....II..... adı verilir."

Verilen cümlede numaralandırılarak boş bırakılan yerlere gelmesi gerekenler, aşağıdakilerin hangisinde doğru verilmiştir?

	I	II
A)	Meridyen	Paralel
B)	Meridyen	Kutup
C)	Paralel	Meridyen
D)	Paralel	Geoit

5. Aşağıdakilerden hangisini, Türkiye'nin coğrafi konumunun önemiyle ilişkilendiremeyiz?

- A) Dağların yüzölçümünde önemli yer tutmasını  
B) Karadeniz'i Akdeniz'e bağlayan boğazlara sahip olmasını  
C) Asya ve Avrupa kıtaları arasında bir köprü konumunda olmasını  
D) Doğusunda zengin petrol yataklarına sahip ülkelerin bulunmasını

6. Tarih Öncesi Devirleri'nin "Taş ve Maden Devirleri" olarak adlandırılmasında, aşağıdakilerden hangisi esas alınmıştır?

- A) Paranın icadı  
B) Ateşin bulunması  
C) Yazının kullanılması  
D) Kullanılan araç ve gereçler

7. Aşağıdaki uygarlık - başkent eşleştirmelerinden hangisi yanlıştır?

- A) Asurlular - Sard  
B) Urartular - Tuşpa  
C) Frigler - Gordion  
D) Hititler - Hattuşaş

8. Tarihin bilinen ilk resmî antlaşması olan Kadeş Barış Antlaşması, aşağıdaki ilk Çağ uygarlıklarından hangileri arasında imzalanmıştır?

- A) Hititler - İyonyalılar  
B) Mısırlılar - Urartular  
C) Hititler - Mısırlılar  
D) Lidyalılar - Frigler

# 1. OTURUM

9. Asya'daki bütün Türk boylarını egemenliği altında toplayan Asya Hun hükümdarı, aşağıdakilerden hangisidir?

- A) Çi-çi B) Mete  
C) Teoman D) Ho-Han-Yeh

10. Aşağıdaki bilgilerden hangisi Kök Türk Devleti ile ilgili değildir?

- A) Başkentleri Pekin şehridir.  
B) Türk adıyla kurulan ilk Türk devletidir.  
C) 6. yüzyılın ortalarında Orta Asya'da kurulan ikinci büyük Türk devletidir.  
D) Akhunlara karşı Sasanilerle ittifak yaparak Akhun Devleti'ne son vermişlerdir.

11. İslam tarihinde gerçekleşen aşağıdaki olaylardan hangisi doğrudan Halife Hz. Ali'nin şehit edilmesiyle ilgilidir?

- A) İslam Devleti'nde Abbasiler Dönemi'nin başlaması  
B) Türklerin İslamiyet'i tanıyarak Müslüman olması  
C) Dört Halife Dönemi'nin sona ermesi  
D) Medine İslam Devleti'nin kurulması

12. Talas Savaşı'nda Çinliler, aşağıdaki hangi devlete yenilmişlerdir?

- A) Emevilere  
B) Abbasilere  
C) Endülüs Emevilerine  
D) Büyük Selçuklulara

13. Tuğrul ve Çağrı beylerin dedesi, aşağıdakilerden hangisidir?

- A) Selçuk Bey B) Nizamülmülk  
C) Sultan Alparslan D) Kaşgarlı Mahmut

14. Türk - İslam devletlerinde aşağıdakilerden hangisinin yasaklanması; oymacılık, kakmacılık, taş işçiliği ve nakkaşlık gibi süsleme sanatlarının gelişmesinde etkili olmuştur?

- A) Çinicilik B) Hat sanatı  
C) Minyatür sanatı D) Resim ve heykelticilik

15. Düşük sıcaklıklara sahip olan Kuzeydoğu Anadolu'nun iklimi, aşağıdaki ürünlerden hangisinin yetiştirilmesine izin verir?

- A) Pirinç B) Mısır  
C) Arpa D) Pamuk

16. Meslek seçimimizde, aşağıdakilerden hangisinin önemi en azdır?

- A) Yeteneklerimizin  
B) Yapabileceklerimizin  
C) Ailemizin isteklerinin  
D) Kişisel özelliklerimizin

17. Aşağıdaki ülkelerden hangisinde çok sayıda Türk işçisi çalışmaktadır?

- A) Almanya B) Norveç  
C) İtalya D) Portekiz

18. Türkiye İşbirliği ve Kalkınma İdaresi Başkanlığı (TİKA), 24 Ocak 1992 tarihinde aşağıdaki bakanlıklardan hangisine bağlı olarak kurulmuştur?

- A) İçişleri Bakanlığına  
B) Dışişleri Bakanlığına  
C) Millî Eğitim Bakanlığına  
D) Çalışma ve Sosyal Güvenlik Bakanlığına

19. Demokrasiyle yönetilen ülkelerin devlet başkanlarına verilen unvan, aşağıdakilerden hangisidir?

- A) Kral B) Sultan  
C) Padişah D) Cumhurbaşkanı

20. "Edinsel Bağışıklık Eksikliği Sendromu" olarak bilinen hastalığın İngilizce kısaltması, aşağıdakilerden hangisidir?

- A) Hepatit B B) Lösemi  
C) AIDS D) Uyuz

# 1. OTURUM

(607) İNGİLİZCE – 6

1-20. sorularda boş bırakılan yere uygun gelen kelime ya da ifadeyi işaretleyiniz.

1. .... he a student?  
A) Does B) Is C) Are D) Am
2. There's a ..... of honey in the fridge.  
A) loaf B) bar C) jar D) box
3. Tom is ..... work now.  
A) among B) under  
C) on D) at
4. There isn't ..... bread on the table.  
A) some B) any C) an D) a
5. .... is a pencil.  
A) This B) They C) These D) Those
6. This is my glass and that's .....  
A) theirs B) ours C) yours D) mine
7. This is my brother and ..... name is Ali.  
A) her B) his C) our D) your
8. Two ..... three equals five.  
A) multiplied by B) divided by  
C) minus D) plus
9. Pavarotti is from Italy. He's .....  
A) Italian B) German  
C) Turkish D) Greek

10. She's an .....  
A) dentist B) lawyer  
C) engineer D) doctor
11. She doesn't ..... her car on Sundays.  
A) is driving B) to drive  
C) drives D) drive
12. Is it snowing outside .....?  
A) tomorrow evening B) at the moment  
C) next weekend D) every day
13. We have a meeting at 10 o'clock. ....  
A) Stop there! B) Don't smoke!  
C) Listen to me! D) Don't be late!
14. A: ..... father is a teacher?  
B: Hande's.  
A) Whose B) Where  
C) What D) When
15. A: What colour is your bag?  
B: .....  
A) I'm 10. B) He's old.  
C) She's tall. D) It's yellow.
16. A: Hello. ....  
B: Fine, thanks. And you?  
A: I'm fine, too.  
A) Where are you from?  
B) How are you today?  
C) What's your name?  
D) How old are you?
17. A: What time is it?  
B: .....  
A) Glad to meet you.  
B) They're ₺ 2 each.  
C) It's eight o'clock.  
D) I've got a new car.

# 1. OTURUM

18. A: .....  
B: I'm sorry, I can't. I'm too busy at the moment.

- A) May I borrow your book?  
B) Can you speak English?  
C) May I come with you?  
D) Can you help me?

19. A: .....  
B: Yes, I do because they're very friendly.

- A) Do you like dogs?  
B) Do you want tea?  
C) Do you play football?  
D) Do you have a passport?

20. A: .....  
B: Three.

- A) What have you got in your bag?  
B) How much money have you got?  
C) How many books have you got?  
D) Who has got a new black car?

## (607) ALMANCA – 6

1 - 14. sorularda boş bırakılan yere uygun gelen kelime ya da ifadeyi işaretleyiniz.

1. A: Wer ..... das?  
B: Das ..... Harald.

- A) bin / ist                      B) ist / ist  
C) bist / heißt                 D) bin / bin

2. A: Ist das ein Auto?  
B: Nein, das ist ..... Auto.



- A) kein    B) keine    C) keinen    D) keines

3. A: Was liest du?  
B: Ich lese ..... Buch.

- A) eine    B) eines    C) ein    D) eins

4. Ali ist krank. Er ..... zum Arzt gehen.  
(zorunluluk)

- A) kann                      B) soll  
C) muss                      D) darf

5. A: Was ..... du?  
B: Ich ..... Obst.

- A) essen / esse                B) esse / essen  
C) isst / esse                 D) esse / isst

6. Sie hat ..... Augen.

- A) kurze                      B) lange  
C) blaue                      D) schlanke

7. achtundzwanzig, ....., dreißig

- A) neunundzwanzig  
B) siebenundzwanzig  
C) einunddreißig  
D) neunzehn

8. Er ..... Arzt.

- A) bin                          B) ist  
C) sind                        D) bist

9. Das ist ..... Tasche ..... Ahmet.

- A) ein / von                      B) die / von  
C) der / von                      D) das / von

10. Mittwoch, ....., Freitag

- A) Samstag                      B) Sonntag  
C) Dienstag                    D) Donnerstag

11. A: Hallo! Wie heißen Sie?  
B: Ich ..... Monika.

- A) heiße                        B) heißt  
C) heißen                      D) heiß

# 1. OTURUM

12. Mein Hobby ist .....



- A) tanzen B) schwimmen  
C) singen D) laufen

13. A: Wie alt ist Hasan?

B: Er ..... 14 Jahre alt.

- A) bin B) hat  
C) ist D) sein

14. A: Hallo! Ich bin Franz.

B: .....

A: Danke, es geht mir gut.

- A) Wie alt bist du?  
B) Wie heißt du?  
C) Wie spät ist es?  
D) Wie geht es dir?

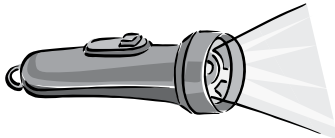
15 ve 16. soruyu resme göre cevaplayınız.

15. Wie spät ist es?



- A) Viertel nach fünf  
B) Viertel vor fünf  
C) Viertel nach vier  
D) Viertel vor vier

16. Was ist das?



- A) Fernseher B) Kühlschrank  
C) Taschenlampe D) Schreibtisch

17. "siebenundzwanzig" in sayı şekli aşağıdakilerden hangisidir?

- A) 17 B) 72 C) 37 D) 27

18. soruda verilen sözcükleri sıralayarak anlamlı bir cümle oluşturunuz.

18. Pause / ich / In der / esse / einen Apfel

1 2 3 4 5

- A) 1 - 2 - 3 - 4 - 5 B) 4 - 3 - 2 - 5 - 1  
C) 5 - 4 - 1 - 3 - 2 D) 3 - 1 - 4 - 2 - 5

19. Aşağıdakilerle bir grupta yapıldığında hangisi uymaz?

der Kafee - der Tee - das Brot - die Limonade

1 2 3 4

- A) 1 B) 2 C) 3 D) 4

20. Aşağıdakilerden hangisi "sıfat değildir" (Adjektiv)

- A) spielen B) kurz C) schlank D) lang

## (607) FRANSIZCA – 6

1 - 15. sorularda boş bırakılan yere uygun gelen kelime ya da ifadeyi işaretleyiniz.

1. .... suis turc.

- A) Elle B) Il C) Je D) Tu

2. A: Tu as quel âge?

B: .....

- A) J'habite à İzmir B) J'ai quinze ans  
C) Je suis avocate D) C'est un ami italien

3. A: ..... ?

B: Je suis turque.

- A) Quelle est ta nationalité  
B) Où habites-tu?  
C) Tu as quel âge  
D) Quelle est ton adresse

# 1. OTURUM

4. A: ..... vas-tu?

B: Très bien, merci.

- A) Pourquoi B) Quelle  
C) Parce que D) Comment

5. Paulette est française, mais elle ..... à Madrid.

- A) habite B) avez C) êtes D) habites

6. Ahmet ..... français et anglais.

- A) parles B) parler C) parlé D) parle

7. Murat travaille ..... Berlin ..... Allemagne.

- A) en / à B) à / aux C) en / au D) à / en

8. Dans les pâtisseries, on vend .....

- A) des livres B) de la viande  
C) des gâteaux D) de l'huile d'olive

9. .... est la Tour Eiffel ?

- A) Quand B) Où C) Ou D) Combien

10. A: Tu es mariée ?

B: Oui, je suis .....

- A) célibataire B) un vieil homme  
C) mariée D) belle

11. A: Tu aimes le café ?

B: Non, je ..... le café.

- A) n'aime pas B) aimer  
C) ne pas aimer D) ai aimé

12. A: ..... vous appelez-vous ?

B: Je m'appelle Tamer.

- A) Où B) Comment  
C) Pourquoi D) Quel

13. A: Pourquoi est-ce que tu manges au restaurant ?

B: ..... j'ai très faim.

- A) Parce que B) Quelle  
C) Comment D) Combien

14. A: Tu connais Can ?

B: Oui, je ..... connais.

- A) la B) les C) lui D) le

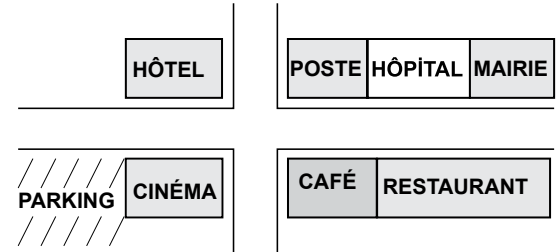
15. A: Zeynep mange de la viande ?

B: Non, elle ne mange jamais .....viande.

- A) le B) la C) de D) des

16-20. soruları resimleri dikkate alarak cevaplayınız.

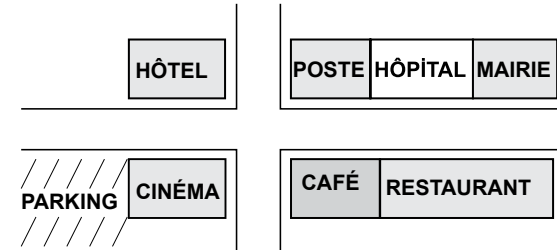
16.



La poste est .....

- A) devant le parking B) à côté du cinéma  
C) en face du café D) derrière l'hôtel

17.



..... est entre la poste et la mairie.

- A) L'hôpital B) La poste  
C) Le cinéma D) Le café

## 1. OTURUM

18.



- A) Il est sept heures et demie  
B) Il est sept heures  
C) Il est sept heures dix  
D) Il est sept heures et quart

19.



Il est .....

- A) médecin  
B) dentiste  
C) ingénieur  
D) architecte

20.



Elle est ..... et elle a les cheveux .....

- A) sérieuse / courts  
B) blonde / blancs  
C) brune / longs  
D) pessimiste / courts

### (608) DİN KÜL. VE AHLAK BİLGİSİ – 6

1. Kur'an-ı Kerim'de aşağıdakilerden hangisinin peygamber olduğu açıkça belirtilmiştir?

- A) Hz. Elyesa  
B) Hz. Üzeyr  
C) Hz. Lokman  
D) Hz. Zülkarneyn

2. Hudeybiye Antlaşma metni imzalandıktan sonra Kureyşlilerden Ebu Cendel Müslüman olduğu için atıldığı hapisten kaçarak Müslümanlara sığınmıştır. Antlaşma gereğince Hz. Muhammed, Kureyşlilere verdiği söze uyaçağını Ebu Cendel'e bildirip kendisine sabır tavsiye ederek onu babasına iade etmiştir. Hz. Muhammed'in bu tutumu onun peygamberlik özelliklerinden hangisiyle yakından ilişkilidir?

- A) Fetanet B) Tebliğ C) İsmet D) Sıdk

3. "Suhuf" ile ilgili aşağıda verilen bilgilerden hangisi yanlıştır?

- A) Toplam yüz sahife gönderilmiştir.  
B) Dört peygambere gönderilmiştir.  
C) Bazıları günümüze kadar ulaşmıştır.  
D) İlk suhuf Hz. Adem'e gönderilmiştir.

4. Asr suresinde tavsiye edilen davranışlar içinde aşağıdakilerden hangisi bulunmaz?

- A) İyi işler yapmak  
B) Oruç tutmak  
C) Allah'a inanmak  
D) Sabırlı olmak

5. Namaz ile ilgili aşağıda verilen bilgilerden hangisi yanlıştır?

- A) Kadir gecesinde farz kılınmıştır.  
B) İnsanın gönlünü Allah'a açmasıdır.  
C) Allah rızasını kazanmak için kılınır.  
D) Farz namazlar vakitle sınırlandırılmıştır.

6. Aşağıdaki durumların hangisinde abdestli olmak farzdır?

- A) Kurban keserken  
B) Namaz kılarken  
C) Cenaze yıkarken  
D) Hadis okurken

# 1. OTURUM

7. Aşağıdakilerden hangisi namazın şartları arasında yer almaz?

- A) Kıraat B) Niyet C) Vakit D) Kamet

8. I. Sabah namazı  
II. Cuma namazı  
III. Akşam namazı  
IV. Yatsı namazı

Farzı iki rekat olan namazlar hangi seçenekte birlikte verilmiştir.

- A) II - IV B) I - III C) I - II D) III - IV

9. Aşağıdakilerden hangisi namazı bozamaz?

- A) Namaz kılariken konuşmak  
B) Namazın farzlarından birini yapmamak  
C) Namaz kılanın önünden geçmek  
D) Namazda göğsünü kıbleden çevirmek

10. “*Namaz, insanı kötülüklerden alıkoyar...*”  
(Nahl suresi, 90. ayet)

Bu ayet aşağıdaki sorulardan hangisine cevap oluşturur?

- A) Namazın maddi temizliğe etkisi var mıdır?  
B) Namaz kim için kılınmalıdır?  
C) Namaz insana neler kazandırır?  
D) Namazı nasıl kılmalıyız?

11. Hz. Muhammed İslam’a çağrının gizli yapıldığı dönemde aşağıdaki sahabelerden hangisinin evinde Müslümanlarla bir araya gelmiştir?

- A) Hz. Ali  
B) Musab b. Umeyr  
C) Zeyd b. Harise  
D) Erkam b. Ebil Erkam

12. Hz. Muhammed, Medine’ye hicret edince hangi iki grubu birbiriyle kardeş ilan etmiştir?

- A) Evs - Hazreç  
B) Ensar - Muhacir  
C) Müslüman - Yahudi  
D) Müslüman - Müşrik

13. I. Hudeybiye Antlaşması  
II. Uhud Savaşı  
III. Mekke’nin Fethi  
IV. Hendek Savaşı

Yukarıdaki olaylardan hangisi diğerlerinden sonra gerçekleşmiştir?

- A) I. B) II. C) III. D) IV.

14. Veda Haccı’nda Hz. Peygamberin değindiği konular arasında aşağıdakilerden hangisi yer almaz?

- A) İnsanların ahiret günü hesaba çekilecekleri  
B) İnsanların birbirleri üzerindeki hakları  
C) Kadınlara eziyet edilmemesi gerektiği  
D) Halife’nin nasıl seçileceği

15. Kur’an-ı Kerim’de peygamberler ile ilgili anlatılan ibretli olaylara ne ad verilir?

- A) Şiir B) Kıssa C) Rivayet D) Hadis

16. “Doğruluk göster. Yalanla uyuşma. Mübalağa etme. Doğruyu söylemekten geri durma. Kendine reva (layık) görmediğini başkalarına da reva görme.”

(Hacı Bektaş Veli)

Bu paragrafta aşağıdakilerden hangisine deği-nilmemiştir?

- A) Gıybetten sakınmaya  
B) Yalandan kaçınmaya  
C) Abartıdan kaçınmaya  
D) Kendini karşıdakinin yerine koymaya

17. “Bir kişiye haksız yere suç isnad etmek” anlamına gelen kavram aşağıdakilerden hangisidir?

- A) Hile B) Haset C) İftira D) Gıybet

18. Aşağıdaki şahsiyetlerden hangisi fıkıh alanında meşhurdur?

- A) Maturidi B) Ebu Hanife  
C) Yunus Emre D) Ahmet Yesevi



# 1. OTURUM

19. Ahi Evran ile ilgili aşağıda verilen bilgilerden hangisi yanlıştır?

- A) Azerbaycan'da doğmuş, Kırşehir'de vefat etmiştir.
- B) Osmanlı döneminde "Esnafın Piri" olarak ün kazanmıştır.
- C) Hacı Bektaş Veli ve Mevlana ile aynı çağda yaşamıştır.
- D) Sözleri "Divan-ı Hikmet" isimli eserde toplanmıştır.

20. • Kiblenin belirlenmesi

- Namaz vakitlerinin belirlenmesi
- Zekatın hesaplanması ve mirasın bölünmesi

Müslümanların bu problemleri çözüme kavuşturmalarında aşağıdaki bilim dallarından hangisine ihtiyaçları yoktur?

- A) Tarih
- B) Astronomi
- C) Coğrafya
- D) Matematik

## (701) TÜRKÇE – 7

1. "Sıkı" sözcüğü aşağıdaki cümlelerin hangisinde "güçlü ve çabuk, hızlı" anlamında kullanılmıştır?

- A) Olumsuz hava şartlarından dolayı dışarı çıkarken sıkı giyindi.
- B) Kendisiyle daha sıkı temasta bulunmak istediğimi bildirdim.
- C) Amcamların çiftliği, kasabadan sıkı yürüyüşle bir saat çeker.
- D) Sıkıyı görünce bu işi bırakacağını sana söylemiştim.

2. Aşağıdaki altı çizili sözcüklerden hangisi mecaz anlamıyla kullanılmıştır?

- A) Kışın Akdeniz'de pek turist bulunmaz.
- B) O, bana her zaman saygılı davranır.
- C) Sınıf arkadaşlarıyla kaynaşması güç olmadı.
- D) Kaza nedeniyle yol trafiğe kapatılmıştı.

3. Amacı "Okuma öncesinde ve okuma sonrasında sorular hazırlanarak, metin üzerinde düşünme ve metnin anlaşılmasını sağlamak" olan okuma yöntemi aşağıdakilerden hangisidir?

- A) Tahmin ederek okuma
- B) Soru sorarak okuma
- C) Göz atarak okuma
- D) Not alarak okuma

4. Aşağıdakilerden hangisi "tartışmalı konuşma"lardan değildir?

- A) Özür dileme konuşması
- B) Panelde yapılan konuşma
- C) Sempozyumda yapılan konuşma
- D) Forumda yapılan konuşma

5. Aşağıdakilerden hangisi dinlemede güçlük yaratan nedenlerden değildir?

- A) Duyuma özürülü olmak
- B) Konuşana önem vermemek
- C) Konuya ilgi duymamak
- D) Rahat olmak

6. İstanbul'a döndüğü gün ayağının tozu ile annesinin elini öpmeye gitmişti.

Bu cümledeki altı çizili deyimın anlamı aşağıdakilerden hangisidir?

- A) Yoldan gelir gelmez, henüz dinlenmeden
- B) Bir yere gönülsüz, istemeye istemeye gitmek
- C) Çok yorulmak, güçsüz, dermansız kalmak
- D) Bir taşıta binerek yürümekten kurtulmak

7. Bir iş yapmak için gerekli olan şeyleri santimi santimine hesaplayarak değil, ölçüyü biraz geniş tutarak hazırlayınız. Çünkü türlü etkenler gerçek ölçüden daha çok harcama yapmanızı gerektirebilir.

Bu metin aşağıdaki atasözlerinden hangisinin açıklamasıdır?

- A) Ya işten artar, ya dişten.
- B) Terazi tartıyla her şey vaktiyle.
- C) Astar bol olmayınca yüze gelmez.
- D) Taşıma su ile değirmen dönmez.

8. "Dün sabah uyandığımızda bütün tabiatı yaşanmış saçlar gibi ağarmış bulduk." cümlesindeki söz sanatı aşağıdakilerden hangisidir?

- A) Benzetme
- B) Kişileştirme
- C) Abartma
- D) Konuşurma

# 1. OTURUM

9. Bir sözcüğün ses, hece uzunluğu, kalınlık ve vurgu yönünden söylenme biçimine ne denir?

- A) Vurgu B) Duraklama  
C) Tonlama D) Telaffuz

10. Aşağıdakilerden hangisi bildirme yazısı değildir?

- A) Mektup B) Deneme  
C) Rapor D) Tutanak

11. 1. Kabağın içi sonbaharda kaynatılan pekmezle ve ambardaki cevizle doldurulur.  
2. Kabak, sapını da içine alacak şekilde üstünden yuvarlak oyulur.  
3. Fırının sadece kapağı değil bacası bile kapatılır kabaklar pişerken.  
4. Kabağın sapı tıpkı bir kapak gibi tekrar yerine konur, fırına yerleştirilir.

Numaralandırılmış cümleler, olayların oluş sırasına göre nasıl sıralanmalıdır?

- A) 2, 1, 4, 3 B) 1, 2, 3, 4  
C) 2, 4, 3, 1 D) 1, 3, 4, 2

12. Bilmezler yalnız yaşamayanlar,  
Nasıl korku verir sessizlik insana;  
İnsan nasıl konuşur kendisiyle,  
Nasıl koşar aynalara,  
Bir cana hasret,  
Bilmezler.

Bu şiirin ana duygusu aşağıdakilerden hangisidir?

- A) Pişmanlık B) Korku  
C) Hasret D) Yalnızlık

13. Ne kadar beğenirseniz beğenin bir başkasını kopya etmeyin. Kendinizi tanıyın, içinizdeki güzellikleri bulun ve bunları geliştirin. Kendi kişiliğinizi ancak bu şekilde oluşturabilirsiniz.

Bu metinde anlatılmak istenen asıl düşünce aşağıdakilerden hangisidir?

- A) Kişilik oluşumu doğal bir süreçtir.  
B) Kişiliği kendi içimizde aramak gerekir.  
C) Başka insanların bilgilerinden faydalanabiliriz.  
D) Beğendiğimiz insanların hoş olmayan yönleri de vardır.

14. Aşağıdaki cümlelerin hangisinde zaman kayması vardır?

- A) Otobüse yetişmek için çok uğraşım.  
B) Bu sıkıntısı çok çalışmasından olmalı.  
C) Okuldan çıkınca hemen kütüphaneye gitmiş.  
D) İki hafta sonra ailece tatile çıkıyoruz.

15. Aşağıdaki altı çizili sözcüklerden hangisi ek fiil almış bir isimdir?

- A) Gönül gurbet ele gitme.  
B) Bir kır atı bir de güzeli severim.  
C) Benim sadık yârim kara topraktır.  
D) İncecikten bir kar yağar.

16. Aşağıdakilerin hangisinde fiil, olumsuz soru şeklinde çekimlenmiştir?

- A) Düşünmüyor mu B) Gelmeli miyiz  
C) Aldı mı D) Buluşacak mıyız

17. Aşağıdaki cümlelerin hangisinde yer-yön zarfı vardır?

- A) Tepeye giden yolda ikişerli yürüyelim.  
B) Can, arkadaşlarıyla dışarı çıktı.  
C) Sandalı boyamak için sabaha kadar çalıştım.  
D) On yaşımdan beri spor yapıyorum.

18. Aşağıdaki kurallı birleşik fiillerden hangisi "tezlik" fiilidir?

- A) Hep aynı olaylar süregeliyordu.  
B) Taşlar üstüme düşeyazdı.  
C) Bu küçücük panoyu uzaktan görebildim.  
D) Anlatılanları iki dakikada özetleyiverdim.

19. Aşağıdaki kelimelerden hangisi yanlış yazılmıştır?

- A) Birçoğu B) Bir türlü  
C) Bir kaç D) Biraz

20. Aşağıdaki cümlelerden hangisinin sonuna soru işareti (?) konmalıdır?

- A) Aaa, ne güzel bir bebek bu  
B) Kaç kişi bu çalışmaya katılmış  
C) Bu sessizlik beni korkutuyor  
D) Hey gidi günler hey

# 1. OTURUM

## (702) MATEMATİK – 7

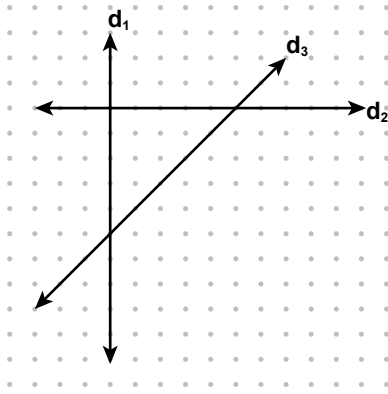
1.  $(+ 5) + (- 12)$  işleminin sonucu kaçtır?

- A) -17 B) -7 C) 7 D) 17

2. Aşağıdakilerden hangisi  $\frac{4}{16}$ 'nın farklı bir gösterimi değildir?

- A)  $\frac{1}{4}$  B) % 25 C) 0,25 D)  $\frac{8}{36}$

3.



Noktalı kağıtta verilen doğruların durumuna göre, aşağıdakilerden hangisi doğrudur?

- A)  $d_1 \perp d_2$  B)  $d_2 \perp d_3$   
C)  $d_1 \perp d_3$  D)  $d_1 \perp d_2 \perp d_3$

4. Ali 400 lira parasının  $\frac{1}{4}$ 'ini harcamış ve geriye kalanının  $\frac{1}{4}$ 'ini kumbarasına atmıştır. Buna göre, Ali kumbarasına kaç lira atmıştır?

- A) 300 B) 100 C) 75 D) 25

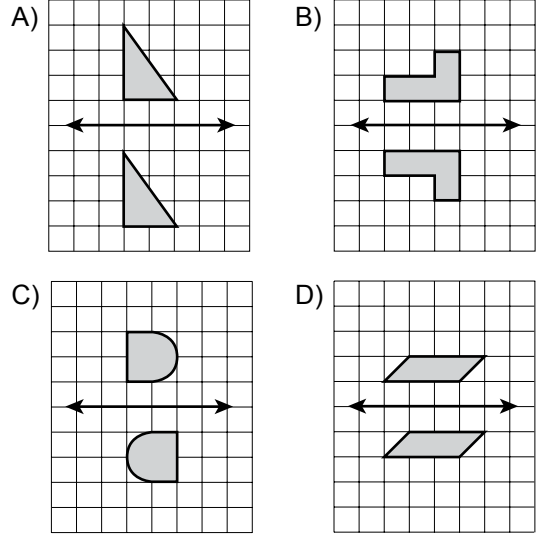
5. Hangi sayının 7! ile çarpımı 9! dir?

- A) 9 B) 17 C) 63 D) 72

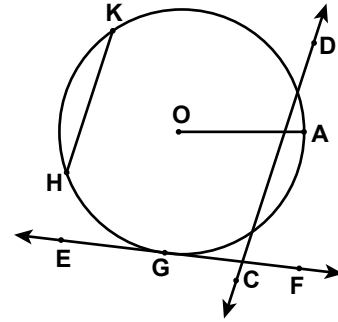
6. Saatte ortalama 80 km süratle yol giden araçla 5 saatte gidilen bir yol, saatte ortalama 100 km süratle yol giden bir araç ile kaç dakika daha kısa sürede gidilir?

- A) 20 B) 30 C) 45 D) 60

7. Aşağıdakilerden hangisindeki şekiller verilen doğruya göre birbirinin yansımasıdır?



8.



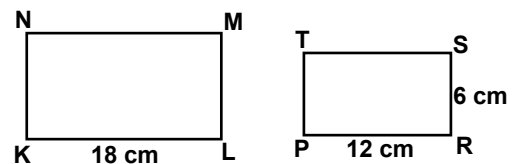
Şekle göre, O merkezli çemberde aşağıdakilerden hangisi kiriştir?

- A) [OA] B) [HK] C) CD D) EF

9. Maliyeti 300 TL olan bir ürün % 20 kârla satılıyor. Bu ürünün satış fiyatı kaç liradır?

- A) 240 B) 320 C) 340 D) 360

10.



Yukarıdaki KLMN dikdörtgeni PRST dikdörtgenine benzerdir. Verilenlere göre KLMN dikdörtgeninin çevresi kaç santimetredir?

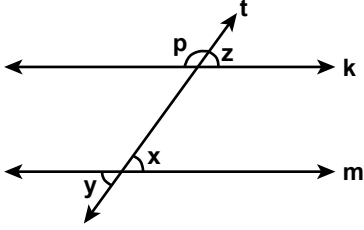
- A) 72 B) 54 C) 48 D) 36

# 1. OTURUM

11. 1, 1, 2, 2, 2, 5, 7, 5, 5, 9, 3 veri grubuna aşağıdakilerden hangisi eklenirse bu veri grubunun ortancası 4 olur?

A) 2      B) 3      C) 4      D) 5

12.



Yukarıdaki şekilde  $t$  doğrusu birbirine paralel olan  $k$  ve  $m$  doğrularını kesmektedir. Buna göre, aşağıdaki ifadelerden hangileri her zaman doğrudur?

- I.  $x = y = z$
- II.  $p + y = 180^\circ$
- III.  $p + x = 90^\circ$
- IV.  $x + z = 180^\circ$

A) I ve II      B) II ve IV  
C) I, II ve III      D) I, II ve IV

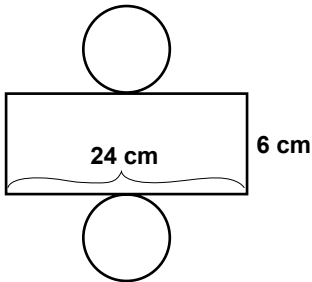
13.  $A = \{0, 1, 2, 3, 4\}$  kümesinin elemanları ile üç basamaklı kaç farklı sayı yazılabilir?

A) 48      B) 60      C) 100      D) 125

14. Bir çeyrek çember yayının uzunluğu 30 cm'dir. Bu çemberin çapı kaç santimetredir? ( $\pi$ 'yi 3 alınız.)

A) 40      B) 50      C) 60      D) 70

15.



Şekilde açılımı verilmiş olan silindirin yüzey alanı kaç santimetrekaredir? ( $\pi$ 'yi 3 alınız.)

A) 148      B) 192      C) 240      D) 248

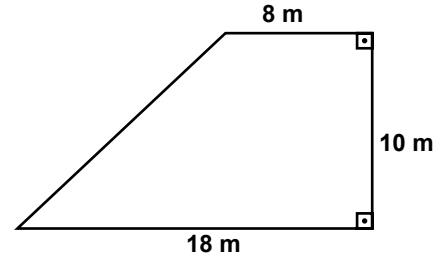
16. Taban yarıçapı 4 cm, yüksekliği 8 cm olan silindir şeklindeki bir bardak yarısına kadar su ile doludur. Bardaktaki boş kısmın hacmi kaç santimetreküptür? ( $\pi$ 'yi 3 alınız.)

A) 96      B) 192      C) 256      D) 348

17.  $(a - 2)^2 - a^2 + 7$  cebirsel ifadesinin en sade şekli aşağıdakilerden hangisidir?

A)  $-4a + 11$       B)  $4a + 3$   
C)  $2a^2 - 8a + 7$       D)  $-2a^2 - 4a + 11$

18.



Yukarıda krokisi verilen tarlanın alanı kaç metrekaredir?

A) 112      B) 130      C) 146      D) 162

19. Küp şeklindeki bir kutunun yüzlerinden 2'si mavi, 3'ü kırmızı, 1'i sarı ile boyalıdır. Kutu yere atıldığında üste gelen yüzün mavi olma olasılığı nedir?

A)  $\frac{1}{3}$       B)  $\frac{1}{2}$       C)  $\frac{2}{3}$       D)  $\frac{3}{4}$

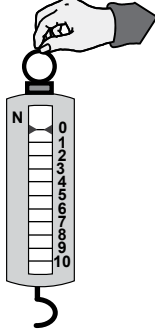
20. Biri diğerinden 2 yaş küçük olan iki kardeşin 5 yıl önceki yaşları toplamı 18'dir. Büyük kardeşin şimdiki yaşı kaçtır?

A) 12      B) 13      C) 15      D) 16





# 1. OTURUM

(703) FEN VE TEKNOLOJİ – 7


1. Şekildeki dinamometre 0 N - 10 N aralığında ölçüm yapmaktadır.



Aşağıda ağırlığı verilen cisimlerden hangisi bu dinamometre ile tartılmak istenirse, dinamometrenin yayı esneklik özelliğini kaybedebilir?

- A)  5N
- B)  7N
- C)  9N
- D)  11N

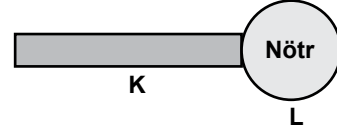
2. Şişenin kapağını açmak için kullanılan basit makine şeklindeki gibidir.



Bu basit makinenin kullanımı, kullanıcıya aşağıdakilerden hangisini sağlar?

- A) İş yapma kolaylığı
- B) İşten kazanç
- C) Kuvvetten kayıp
- D) Kuvvetten ve yoldan kazanç

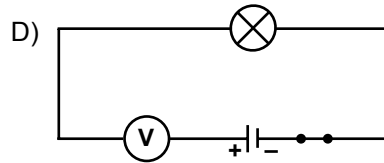
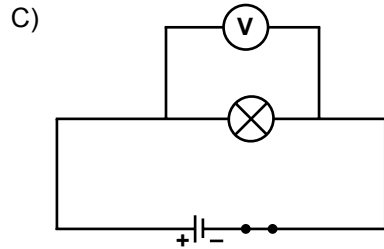
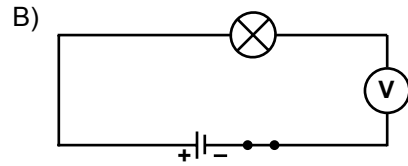
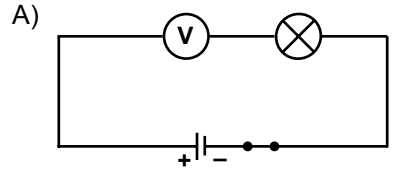
3. İletken pozitif (+) yüklü K cismi ile nötr L cismi şeklindeki gibi birbirine dokunduruluyor.



Buna göre, K ve L cisimlerinin son yükleri aşağıdakilerin hangisinde doğru verilmiştir?

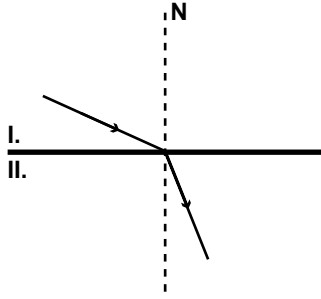
- |    | K | L |
|----|---|---|
| A) | - | - |
| B) | + | - |
| C) | + | + |
| D) | - | + |

4. Aşağıdaki elektrik devrelerinin hangisinde voltmetre, ampulün gerilimini ölçmek için doğru bağlanmıştır?



# 1. OTURUM

5. Işık ışını I. ortamdan II. ortama geçerken şekildedeki gibi kırılmıştır.



Bu ortamlarla ilgili aşağıdakilerden hangisi doğrudur?

- A) I. ortam, II. ortama göre daha yoğundur.  
 B) II. ortam, I. ortama göre daha yoğundur.  
 C) I. ortam su ise II. ortam hava olabilir.  
 D) Işık ışını, çok yoğun ortamdaki az yoğun ortama geçmiştir.

7. Aylin, bulutsuz bir gecede gökyüzüne çıplak gözle bakarken gördüğü gök cisimlerine ait özellikleri tabloya kaydetmiştir.

Gök cismi	Işığı titreşiyor	Yuvarlak disk şeklinde görünüyor
K	✓	
L		✓

Aylin'in tabloda K ve L ile ifade ettiği gök cisimleri aşağıdakilerin hangisinde doğru verilmiştir?

- | K           | L        |
|-------------|----------|
| A) Gezegen  | Yıldız   |
| B) Yıldız   | Gezegen  |
| C) Gök taşı | Gezegen  |
| D) Yıldız   | Gök taşı |

6. Öğrenciler, merceklerin kullanım alanlarıyla ilgili aşağıdaki örnekleri veriyorlar.

Miyop göz kusurunun düzeltilmesinde kullanılır.



Ahmet

Mikroskop yapımında kullanılır.



Betül

Basit büyüteç yapımında kullanılır.



Canan

Hipermetrop göz kusurunun düzeltilmesinde kullanılır.



Deniz

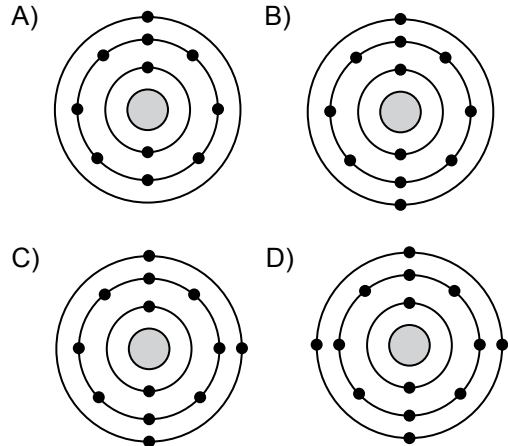
Buna göre, hangi öğrenci kalın kenarlı merceğin kullanım alanına örnek vermiştir?

- A) Ahmet  
 B) Betül  
 C) Canan  
 D) Deniz

8. Uzayda, gelişmiş teknik araçlar kullanarak incelemeler yapan bilim insanlarına ne ad verilir?

- A) Gök bilimci  
 B) Gözlemci  
 C) Astronomi  
 D) Astronot

9. Proton sayısı 14 olan silisyum atomunun elektron dizilim modeli aşağıdakilerden hangisidir?



10. Yandaki balonda adı yazılı olan iyonun formülü aşağıdakilerden hangisidir?



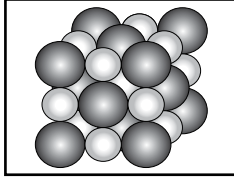
- A)  $SO_4^{-2}$   
 B)  $NH_4^+$   
 C)  $NO_3^-$   
 D)  $PO_4^{-3}$

# 1. OTURUM

11.  $O^{-2}$  iyonu ile ilgili olarak aşağıdakilerden hangisi doğrudur?

- A)  $Mg^{+2}$  iyonu ile iyonik bağ yapar.
- B) He atomu ile kovalent bağ yapar.
- C)  $S^{-2}$  iyonu ile elektron alışverişi yapar.
- D)  $Ca^{+2}$  iyonu ile elektronlarını ortaklaşa kullanır.

12. Bir maddeye ait tanecik modeli şekilde verilmiştir.



Bu madde ile ilgili aşağıdakilerden hangisi yanlıştır?

- A) İyonlardan oluşmuştur.
- B) Molekül yapıları bir bileşiktir.
- C) Yapısında iki çeşit element bulunur.
- D) Yapısındaki elementler başlangıçta sahip oldukları özellikleri kaybederler.

13. Selim, bir paket çilekli içecek tozu ile bir litre suyu karıştırarak hazırladığı içeceğin tadına bakıyor ve içeceği çok seyreltik buluyor.

Selim bu içeceği daha derişik hâle getirmek için aşağıdakilerden hangisini yapmalıdır?

- A) Bir miktar su eklemelidir.
- B) Kapalı kapta buzdolabında bekletmelidir.
- C) Bir miktar çilekli içecek tozu eklemelidir.
- D) Daha büyük bir kaba alıp karıştırmalıdır.

14. • Sindirim sisteminin en uzun bölümüdür.  
• İç yüzeyi villüs adı verilen ince parmak şeklindeki çıkıntılarla kaplıdır.  
• Safra salgısı ve pankreas öz suyu buraya dökülür.  
• Besinler burada kana geçebilecek hâle getirilir.

Yukarıda özellikleri verilen sindirim sistemi kısmı hangisidir?

- A) Mide
- B) Yemek borusu
- C) İnce bağırsak
- D) Kalın bağırsak

15. Boşaltım sisteminde gerçekleşen aşağıdaki olayların meydana geliş sırası hangisinde doğru verilmiştir?

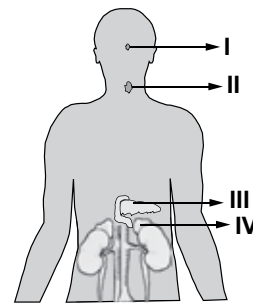
- I. Kanın böbreklere gelmesi
- II. İdrarın üretere ve sonra da idrar kesesine geçişi
- III. Kandaki atıkların nefronlarda süzülerek fazla suyla birlikte idrarı oluşturması

- A) I - II - III
- B) II - III - I
- C) III - I - II
- D) I - III - II

16. Bir cismin görüntüsünün algılanmasında göz merceği, gelen ışınları kırarak cismin görüntüsünü ağ tabaka üzerine düşürür. Buna göre, cismin gerçek görüntüsü ile beyinde algılanan görüntüsü aşağıdakilerin hangisinde verilmiştir?

	Cismin gerçek görüntüsü	Beyinde algılanan görüntü
A)		
B)		
C)		
D)		

17.



Şekilde vücudumuzdaki bazı iç salgı bezleri numaralandırılarak verilmiştir. Bunlardan hangisi tiroksin hormonu salgılar?

- A) I
- B) II
- C) III
- D) IV

# 1. OTURUM

18. Öğretmen, derste ekolojik kavramları anlatırken “okyanus, orman, insan bağırsağı” şeklindeki örnekler veriyor.

Buna göre, öğretmenin anlattığı kavram aşağıdakilerden hangisidir?

- A) Tür B) Habitat  
C) Popülasyon D) Canlı çevre

19. • Bitkiler ve klorofil içeren diğer canlılar tarafından fotosentezde kullanılır.

• Birçok canlının çoğalma, göç gibi yaşamsal etkinliklerinin düzenlenmesinde rol oynar.

Özellikleri verilen çevre faktörü aşağıdakilerden hangisidir?

- A) Işık B) Toprak  
C) Tüketici D) Ayrıştırıcı

20. • Kutup çemberi yakınlarında bulunur.

• Bu bölgelerde kış mevsimi uzun ve çok soğuktur, yazlar ise kısa ve ılıktır.  
• Çam, ladin gibi her mevsim yeşil görünen ağaçlardan oluşur.

Yukarıda özellikleri verilen ekosistem hangisidir?

- A) Çayır  
B) Tundra  
C) İğne yapraklı ağaç ormanları  
D) Yağmur ormanları

## (806) TC İNK. TAR. VE ATATÜRK. – 8

1. Mustafa Kemal'in öğrenmek için dersler aldığı yabancı dil, aşağıdakilerden hangisidir?

- A) Rusça B) Almanca  
C) İtalyanca D) Fransızca

2. Mustafa Kemal, I. Dünya Savaşı'nın Kafkas Cephesi'nde Rus kuvvetleriyle savaşarak aşağıdaki hangi illerimizi Rus işgalinden kurtarmıştır?

- A) Van ve Muş  
B) Muş ve Bitlis  
C) Erzurum ve Erzincan  
D) Kars, Ardahan ve Batum

3. Padişah II. Abdülhamit'in tahttan indirilmesine neden olan isyan, aşağıdakilerden hangisidir?

- A) 31 Mart B) Patrona Halil  
C) Canbolatoğlu D) Kabakçı Mustafa

4. • Makedonya'nın en büyük şehirlerinden biridir.  
• İşlek bir limana sahiptir.  
• Avrupa'ya kara, deniz ve demir yollarıyla bağlantısı vardır.  
• Şehirde çeşitli din, mezhep ve ırk mensupları bir arada yaşamaktadır.

Özelliklerinden bazıları verilerek tanıtmaya çalışılan şehir, aşağıdakilerden hangisidir?

- A) Üsküp B) Kavala  
C) Selanik D) Manastır

5. Akdeniz'deki İtilaf Devletleri donanması önünden kaçarak Osmanlı himayesine giren ve Osmanlılar tarafından da satın alındığı açıklanan Breslau ve Goben isimli savaş gemileri, aşağıdaki devletlerden hangisine aittir?

- A) İtalya B) Fransa  
C) İngiltere D) Almanya

6. I. Dünya Savaşı'nın aşağıdaki cephelerinden hangisinin sonucunda I. Dünya Savaşı uzamıştır?

- A) Kanal B) Kafkas  
C) Çanakkale D) Galiçya

7. İstanbul Hükümeti, faaliyetlerinden dolayı ilk kez aşağıdakilerden hangisinde eleştirilmiştir?

- A) Amasya Görüşmeleri'nde  
B) Amasya Genelgesi'nde  
C) Erzurum Kongresi'nde  
D) Misakımillî'de

8. Aşağıdakilerden hangisinde millî cemiyetler bir çatı altında toplanarak “Anadolu ve Rumeli Müdafaa-i Hukuk Cemiyeti” adını almıştır?

- A) Misakımillî'de  
B) Sivas Kongresi'nde  
C) Havza Mitinginde  
D) Erzurum Kongresi'nde



# 1. OTURUM

9. Ermeniler, aşağıdaki antlaşmalardan hangisiyle Doğu Anadolu'daki her türlü isteklerinden vazgeçmişlerdir?

- A) Gümrü B) Kars  
C) Moskova D) Ankara

10. "Tüm iyi niyet ve çabalara rağmen Kuvayı-millie güçleri ile düşmanın yurttan atılamayacağı anlaşılmıştır. Bunun üzerine TBMM ..... karar vermiştir."

Verilen cümlede boş bırakılan yere aşağıdakilerden hangisi yazılmalıdır?

- A) Tekâlif-i Milliye Emirleri'nin yayımlanmasına  
B) Mustafa Kemal'in "Başkomutanlığa" atanmasına  
C) Amasya Görüşmeleri'nin yapılmasına  
D) Düzenli ordunun kurulmasına

11. Aşağıdaki olaylardan / gelişmelerden hangisi I. İnönü Savaşı ile II. İnönü Savaşı tarihleri arasında meydana gelmemiştir?

- A) İstiklal Marşı'nın kabulü  
B) Londra Konferansı'nın toplanması  
C) Tekâlif-i Milliye Emirleri'nin yayımlanması  
D) Teşkilat-ı Esasiye Kanunu'nun (İlk Anayasa) çıkarılması

12. Mustafa Kemal üstlendiği;

I- 9. Ordu Müfettişliği

II- Başkomutanlık

III- Cumhurbaşkanlığı

görevlerinden hangisinde belirli bir süre için TBMM'nin yetkilerini kullanmıştır?

- A) Yalnız I B) Yalnız II  
C) I ve II D) II ve III

13. Aşağıdaki kanunlardan hangisiyle yeni kurulan Türk devletindeki tüm okullar Millî Eğitim Bakanlığına bağlanarak denetim altına alınmıştır?

- A) Kabotaj Kanunu  
B) Hıyanet-i Vataniye Kanunu  
C) Tevhid-i Tedrisat Kanunu  
D) Takrir-i Sükûn Kanunu

14. Mustafa Kemal'in sağlığında son kez denediği "çok partili siyasi hayat" girişimini başarısız bırakan gelişme aşağıdakilerden hangisidir?

- A) Mustafa Kemal'e suikast girişimi  
B) Çerkez Ethem Ayaklanması  
C) Şeyh Sait İsyanı  
D) Menemen Olayı

15. Aşar vergisinin kaldırılması, aşağıdaki hangi alanla ilgili bir inkılaptır?

- A) Tarımla B) Ticaretle  
C) Sanayiyle D) Sağlıkla

16. Mondros Ateşkes Antlaşması'ndan sonra Türk milleti, aşağıdaki sözlerden hangisini Millî Mücadele'nin başlangıç parolası saymıştır?

- A) "İstikbal göklerde dir."  
B) "Ya İstiklal Ya Ölüm"  
C) "Ordular! İlk hedefiniz Akdeniz'dir, ileri!"  
D) "Egemenlik kayıtsız şartsız milletindir."

17. Türkiye Cumhuriyeti'nin ve Türk milletinin modernleşmesinin sürekliliğini sağlayan Atatürk ilkesi, aşağıdakilerden hangisidir?

- A) Laiklik B) Devletçilik  
C) İnkılapçılık D) Milliyetçilik

18. Mustafa Kemal, "Kırk asırlık Türk yurdu yabancı elinde kalmaz." diyerek dış politikadaki hangi soruna vurgu yapmıştır?

- A) Dış borçlar B) Boğazlar  
C) Musul D) Hatay

19. Irak'ın Kuveyt toprakları üzerinde tarihî hakkı olduğunu iddia etmesi, buna karşılık Kuveyt'in de bu iddiaları kabul etmemesi üzerine ortaya çıkan kriz, aşağıdakilerden hangisidir?

- A) Kosova Krizi B) Körfez Krizi  
C) Küba Krizi D) Kore Krizi

20. Dünya rezervlerinin yaklaşık % 70'inin Türkiye'de bulunduğu yer altı kaynağı, aşağıdakilerden hangisidir?

- A) Bor B) Petrol C) Toryum D) Krom

# 1. OTURUM

(807) İNGİLİZCE – 8

1 - 18. sorularda boş bırakılan yere uygun gelen kelime ya da ifadeyi işaretleyiniz.

1. .... Ali at home last night?  
A) Is B) Has C) Does D) Was
2. I didn't ..... my mother yesterday.  
A) visit B) visited  
C) visiting D) to visit
3. Would you mind if I ..... the window?  
A) open B) opened  
C) opening D) to open
4. She's worked as a teacher ..... 2003.  
A) for B) just C) since D) so far
5. What was Mert doing ..... you met him yesterday?  
A) when B) after C) while D) before
6. I've ..... seen that movie.  
A) yet B) ever C) since D) already
7. It's the ..... expensive car of all.  
A) many B) most C) more D) much
8. The girl ..... is combing her hair is my daughter.  
A) whom B) who C) whose D) which
9. Neither Ali ..... Cem has visited yet.  
A) nor B) too C) enough D) either

10. Hande can speak German. .... can I.  
A) So B) Too C) Also D) Neither
11. There isn't ..... water in the glass.  
A) a few B) some C) many D) much
12. There is a ..... of milk on the table.  
A) bottle B) loaf C) bar D) tin
13. Students are ..... to do their homework in time.  
A) would rather B) supposed to  
C) had better D) ought to
14. .... days are there in a week?  
A) How much B) How often  
C) How many D) How far
15. She slept until .....  
A) her friends came.  
B) they will meet.  
C) he is cooking.  
D) you have left.
16. This is the most delicious food .....  
A) I will make for lunch.  
B) I have for breakfast.  
C) I cooked last night.  
D) I have ever tasted.
17. Don't wait for me if .....  
A) I would have moved.  
B) I am late for dinner.  
C) I will pass the exams.  
D) I would lend you money.

# 1. OTURUM

18. A: .....  
B: Leather.  
A) How far is the city library?  
B) How much do the lemons cost?  
C) What are your shoes made of?  
D) How can I go to the airport?
19. Aşağıda verilen boşluğa hangi seçenek getirilemez?  
The cake ..... delicious.  
A) smells B) tastes C) looks D) feels
20. Aşağıda verilen cümlelerin edilgen (passive) halini işaretleyiniz.  
"The police caught the thief."  
A) The thief can't escape from the police.  
B) The police couldn't catch the thief.  
C) The thief was caught by the police.  
D) The police was seen by the thief

(807) ALMANCA – 8

1 - 19. sorularda boş bırakılan yere uygun gelen ek, kelime ya da ifadeyi işaretleyiniz.

1. Er kommt ..... Italien.  
Er ist Italiener.  
A) um B) aus C) in D) auf
2. Ich freue ....., wenn es sonnig ist.  
A) dich B) sich C) mich D) uns
3. In der Türkei ..... man Tee zum Frühstück.  
A) trinkt B) trinken C) isst D) essen
4. lang, ....., am längsten.  
A) lange B) lang C) länger D) längste
5. Die schön-... Blumen. (Plural)  
A) -en B) -e C) -es D) -ste

6. A: Welch-... Auto gefällt dir?  
B: Mir gefällt... rote Auto?  
A) -en / die B) -e / der  
C) - / das D) -es / das
7. Der Schüler ..... spät zum Unterricht.  
(Präteritum)  
A) kommen B) kam  
C) gekommen D) kommt
8. Die blaue Hose ist teurer ..... der Pullover.  
A) sie B) wie C) so D) als
9. Der Mann, ..... im Auto sitzt, ist mein Vater.  
A) die B) das C) der D) dem
10. Wir freuen .....  
A) uns B) ihr C) ich D) sich
11. Ayşe hilft ihr-... Mutter beim Kochen.  
A) -e B) -en C) -es D) -er
12. .... trinkst du zum Frühstück?  
A) Was B) Wer C) Wen D) Wem
13. A: Hallo Ahmet! Wo ist dein Vater?  
B: ..... ist zu Hause.  
A) Sie B) Ihr C) Er D) Es
14. Wir wohnen ..... Köln.  
A) nach B) in C) um D) auf
15. Ich und Gülay ..... im Garten.  
A) spiele B) spielt  
C) spielst D) spielen

# 1. OTURUM

16. A: Hat ..... der Film gefallen?  
B: Ja, der Film hat uns sehr gefallen.  
A) euch B) dir C) mir D) ihr
17. Ich gehe schlafen, ..... ich müde bin.  
A) denn B) um C) wenn D) als
18. Der Lehrer kontrolliert die Hausaufgabe  
..... Schüler-... .  
A) die / -es B) des / -s  
C) der / -n D) den / -n
19. Nuriye möchte mit ..... Eltern in die Ferien  
fahren.  
A) ihr B) ihren C) ihre D) sein
20. Aşağıdakilerden hangisi fiil (Verb) değildir?  
A) laufen B) arbeiten  
C) schlafen D) laut

## (807) FRANSIZCA – 8

1 - 15. sorularda boş bırakılan yere uygun  
gelen kelime ya da ifadeyi işaretleyiniz.

1. .... habite à Ankara depuis dix ans.  
A) Ils B) Il C) Elles D) Tu
2. Mon frère ..... un voyage en Afrique en  
2013.  
A) a fait B) est fait  
C) ai fait D) vas faire
3. Elle ..... à Tokyo au Japon pendant deux  
ans.  
A) est resté B) es resté  
C) est restée D) sont restées

4. Pour acheter du pain je vais chez ..... .  
A) le crémier  
B) le boucher  
C) le marchand de légumes  
D) le boulanger
5. Mon père a 52 ans ; ma mère a 46 ans.  
Mon père est ..... que ma mère  
A) plus âgé B) moins âgé  
C) plus jeune D) aussi jeune
6. Ahmet a acheté trois chemises et trois  
cravates.  
Alors, il a acheté ..... de chemises que de  
cravates  
A) plus B) tant C) moins D) autant
7. Comme boisson, ..... une limonade  
A) buvez B) mangez  
C) dînez D) déjeunez
8. Le lait coûte un euro ..... .  
A) le kilo B) le litre  
C) le mètre D) la télécarte
9. A: ..... est la poste ?  
B: Elle est à côté de la banque.  
A) Quand B) Où  
C) Ou D) Combien
10. Pour venir en Turquie, les touristes japonais  
..... en avion.  
A) visitent B) apportent  
C) devient D) voyagent
11. Voilà le roman ..... J'ai lu la semaine  
dernière.  
A) qui B) dont C) que D) où

## 1. OTURUM

12. Bernard a conduit des voitures ..... font 260 km à l'heure

- A) què B) que C) qui D) quel

13. M.Dupuis a 82 ans, c'est .....

- A) une vieille dame B) une jeune femme  
C) un vieux monsieur D) un garçon brun

14. Si j'ai de l'argent, je ..... le tour du monde.


- A) ferai B) ai fait C) ferait D) feras

15. Je (J') ..... sortir quand tu es rentré.

- A) est allée B) va aller  
C) es allé D) allais

16-20. soruları resimleri dikkate alarak cevaplayınız.

16.



Ils font .....

- A) de la peinture B) du sport  
C) du cinéma D) de l'escalade

17.



Pierre ne peut pas courir parce qu'il a .....

- A) le bras cassé B) mal au dos  
C) mal au ventre D) la jambe cassée

18.



Quand il fait beau, ils ..... dans le parc.

- A) se lavent D) me couche  
D) se promènent D) me peigne

19.



Il met son manteau en .....

- A) pleurant B) dansant  
C) courant D) chantant

# 1. OTURUM

20.



Elle a mal .....

- A) au dos                      B) aux pieds  
C) aux dents                 D) au ventre

## (808) DİN KÜL. VE AHLAK BİLGİSİ – 8

1. Aşağıdaki ayetlerin hangisi toplumsal yasalara işaret etmektedir?

- A) “Onlar yeryüzünde gezip kendilerinden öncekilerin sonunun nasıl olduğuna bakmazlar mı?...”  
(Fatır suresi, 44. ayet)  
B) “O (Allah), insanı alaktan (embriyodan) yarattı.”  
(Alak suresi, 2. ayet)  
C) “Göğü Allah yükseltti ve mizanı (dengeyi) O koydu. Sakın dengeyi bozmayın.”  
(Rahman suresi, 7. ve 8. ayetler)  
D) “Güneş ve ay bir hesaba göre (hareket etmekte) dir.”  
(Rahman suresi, 5. ayet)

2. “Biz her şeyi bir düzene, ölçüye, plana göre yarattık.”

(Kamer suresi, 49. ayet)

Bu ayet, aşağıdaki kavramlardan hangisiyle ilişkilendirilebilir?

- A) Tevekkül                      B) Kader  
C) Ecel                              D) Rızık

3. • Güvenmek  
• Dayanmak  
• Sığınmak

Bu kavramlar aşağıdakilerden hangisinin tanımıyla ilgilidir?

- A) İman                              B) İrade  
C) Kaza                              D) Tevekkül

4. Ayet’el Kürsi’de aşağıdakilerden hangisi yer almaz?

- A) Lâte’ huzuhusinetün vela nevm...  
B) Menzelleziyeşfeu indehû İlla biiznih...  
C) La yesteve eshabunnari ve eshabulcenneh...  
D) Vesî’a kürsiyyühü’s-semâvâti vel-ard....

5. Aşağıdakilerden hangisi paylaşma ve yardımlaşmanın sonuçlarından biri olamaz?

- A) Toplumsal barışa katkı sağlar.  
B) Cimrilik, bencillik gibi duyguları artırır.  
C) Toplumda dayanışma bilincini geliştirir.  
D) Zengin ve fakir arasında yakınlaşma sağlar.

6. “Takva sahipleri (sorumluluklarının bilincinde olanlar), bollukta da darlıkta da Allah için harcarlar, öfkelerini yutarlar ve insanları affederler, Allah da güzel davranışta bulunanları sever.”  
(Âl-i İmran suresi, 134. ayet)

Bu ayette aşağıdakilerden hangisine değininilmemiştir?

- A) Paylaşma ve yardımlaşmaya  
B) Bağışlayıcı olmaya  
C) Sabırlı davranmaya  
D) Cesaretli olmaya

7. Aşağıdakilerden hangisi zekat kavramının kelime anlamları arasında yer almaz?

- A) Eksilme                              B) Arınma  
C) Bereket                              D) Çoğalma

8. Aşağıdaki ibadetlerin hangisinde vakit şartı aranmaz?

- A) Namaz                              B) Kurban  
C) Sadaka                              D) Hac

9. Umre’de aşağıdakilerden hangisi yapılmaz?

- A) Kâbe’yi tavaf etmek  
B) Arafat’ta vakfe yapmak  
C) İhrama girmek  
D) Sa’y yapmak

# 1. OTURUM

10. Aşağıdaki kavramlardan hangisi Hac ibadeti ile ilgili değildir?

- A) Mikat  
B) Şavt  
C) Fitre  
D) Telbiye

11. Aşağıdakilerden hangisi Hz. Muhammed'de görülen davranışlardan biri değildir?

- A) Kendini insanlardan üstün görme  
B) Konuştuğu kimseleri dikkatle dinleme  
C) Biriyle karşılaşınca ona selam verme  
D) İnsanlarla iletişimde yumuşak bir üslup kullanma

12. Mekkeliler, peygamberliğinden önce olduğu gibi, daha sonra da eşyalarını Hz. Muhammed'e emanet ederlerdi.

Mekkelilerin bu şekilde davranması Hz. Muhammed'in hangi özelliği ile ilgilidir?

- A) Kararlılığı  
B) Hoşgörüsü  
C) Sabırlılığı  
D) Güvenirliği

13. • Bilgi öğrenmek amacıyla yola çıkan kişi, dönünceye kadar Allah yolundadır.  
• İlim Mü'minin yitik malıdır. Onu nerede bulursa alsın.

Aşağıdaki faaliyetlerinden hangisi Hz. Muhammed'in bu sözleriyle ilgilidir?

- A) Kâbe hakemliği  
B) Suffa'yı inşa ettirmesi  
C) Medine'ye hicret etmesi  
D) Medine vesikasını hazırlaması

14. Hz. Muhammed ve Hz. Ebubekir Medine'ye hicret ederken müşriklerden korunmak için mağaraya gizlendiler. Onları takip eden müşrikler mağaranın kapısına kadar gelince Hz. Ebubekir telaşlandı. Peygamberimiz Hz. Ebubekir'e "Korkma Allah bizimle beraberdir." dedi.

Bu olayda Hz. Muhammed'in hangi özelliği ön plana çıkmaktadır?

- A) Merhametli oluşu  
B) Cesaretli oluşu  
C) Kararlı oluşu  
D) Sabırlı oluşu

15. Aşağıdakilerden hangisi asıl amacı sosyal yardım olan kuruluşlarımızdan biri değildir?

- A) Tema Vakfı  
B) Mehmetçik Vakfı  
C) Milli Eğitim Vakfı  
D) Sosyal Yardımlaşma ve Dayanışma Vakfı

16. Aşağıdakilerden hangisi kul hakkı kapsamında değerlendirilmez?

- A) Hırsızlık  
B) Yalan  
C) Gıybet  
D) Cömertlik

17. "Hastalık gelmeden önce sağlığın, ölüm gelmeden önce hayatın değerini bilin."  
(Hadis-i Şerif)

Bu hadisi kendisine ilke edinen bir kimseden aşağıdaki davranışlardan hangisi beklenmez?

- A) Dengeli beslenmesi  
B) Rızkını kazanmak için çalışması  
C) Zamanını boş şeylerle geçirmesi  
D) İçki ve kumardan uzak durması

18. Aşağıdakilerden hangisi dinlerin evrensel öğütleri arasında yer almaz?

- A) Aynı ilaha inanmak  
B) Doğru sözlü olmak  
C) Temizliğe dikkat etmek  
D) Yardımsever olmak

19. Aşağıdakilerden hangisi Hz. İsa hakkında Hristiyanlık ve İslam'ın ortak görüşü değildir?

- A) Annesi Hz. Meryem'dir.  
B) Kendisine İncil verilmiştir.  
C) Çarmıha gerilerek öldürülmüştür.  
D) Nasıra denilen yerde doğmuştur.

20. Karma yasası ve tenasuh inancı aşağıdaki dinlerin hangisinde vardır?

- A) Yahudilik  
B) Budizm  
C) Hristiyanlık  
D) Hinduizm

TEST BİTTİ.  
CEVAPLARINIZI KONTROL EDİNİZ.

## SINAV SÜRESİNCE UYULACAK KURALLAR

1. Adaylar, sınav kurallarına ve salon görevlilerinin tüm uyarılarına uymak zorundadırlar. Kurallara ve uyarılara uymayan adayların sınavları geçersiz sayılacaktır.
2. Sınav başladıktan sonra adayların salon görevlileri ve birbirleri ile konuşmaları, kalem, silgi vb. şeyleri istemeleri yasaktır.
3. Adaylar sınav süresince, sınav giriş belgesi ile birlikte kimlik belgelerinden birini (nüfus cüzdanı, pasaport veya sürücü belgesi) masalarının üzerinde bulundurmamak zorundadırlar.
4. Sınav evraklarını teslim etmeyen, soru kitapçıklarının sayfalarından bir kısmını eksik teslim edenlerin sınavları geçersiz sayılacaktır.

## SALON GÖREVLİLERİNCE SINAV BAŞLAMADAN ÖNCE ADAYLARA YAPILACAK SON UYARI

- Soracağınız bir şey var mı? Varsa, şimdi sorunuz.
- Sınav başladıktan sonra sorularınıza cevap verilmeyecektir.
- Başlama zilini bekleyiniz.
- Hepinize başarılar dileriz.

(Salon başkanı başlama ve bitiş saatini tahtaya yazacaktır.)

Bu kitapçığın her hakkı saklıdır. Hangi amaçla olursa olsun, kitapçığın tamamının veya bir kısmının Millî Eğitim Bakanlığı Ölçme, Değerlendirme ve Sınav Hizmetleri Genel Müdürlüğünün yazılı izni olmadan kopya edilmesi, fotoğraflarının çekilmesi, bilgisayar ortamına alınması, herhangi bir yolla çoğaltılması, yayımlanması veya başka bir amaçla kullanılması yasaktır. Bu yasağa uymayanlar, doğabilecek cezai sorumluluğu ve kitapçığın hazırlanmasındaki mali külfeti peşinen kabullenmiş sayılır.



**22 MART 2015 TARİHİNDE YAPILAN**  
**AÇIK ÖĞRETİM ORTAOKULU 2014-2015 ÖĞRETİM YILI 2. DÖNEM SINAVI**  
**1. OTURUM CEVAP ANAHTARI**

**TÜRKÇE – 7**

1. C
2. C
3. B
4. A
5. D
6. A
7. C
8. A
9. D
10. B
11. A
12. D
13. B
14. D
15. C
16. A
17. B
18. D
19. C
20. B

**FEN ve TEKNOLOJİ – 7**

1. D
2. A
3. C
4. C
5. B
6. A
7. B
8. D
9. D
10. C
11. A
12. B
13. C
14. C
15. D
16. A
17. B
18. B
19. A
20. C

**İNGİLİZCE – 8**

1. D
2. A
3. B
4. C
5. A
6. D
7. B
8. B
9. A
10. A
11. D
12. A
13. B
14. C
15. A
16. D
17. B
18. C
19. D
20. C

**FRANSIZCA – 8**

1. B
2. A
3. C
4. D
5. A
6. D
7. A
8. B
9. B
10. D
11. C
12. C
13. C
14. A
15. D
16. B
17. D
18. C
19. C
20. C

**MATEMATİK – 7**

1. B
2. D
3. A
4. C
5. D
6. D
7. B
8. B
9. D
10. B
11. D
12. A
13. C
14. A
15. C
16. B
17. A
18. B
19. A
20. C

**TC İNK. TAR. VE ATA. – 8**

1. D
2. B
3. A
4. C
5. D
6. C
7. B
8. B
9. A
10. D
11. C
12. B
13. C
14. D
15. A
16. B
17. C
18. D
19. B
20. A

**ALMANCA – 8**

1. B
2. C
3. A
4. C
5. A
6. D
7. B
8. D
9. C
10. A
11. D
12. A
13. C
14. B
15. D
16. A
17. C
18. B
19. B
20. D

**DİN KÜLTÜRÜ ve AHLAK  
BİLGİSİ – 8**

1. A
2. B
3. D
4. C
5. B
6. D
7. A
8. C
9. B
10. C
11. A
12. D
13. B
14. B
15. A
16. D
17. C
18. A
19. C
20. D

**22 MART 2015 TARİHİNDE YAPILAN  
AÇIK ÖĞRETİM ORTAOKULU 2014-2015 ÖĞRETİM YILI 2. DÖNEM SINAVI  
1. OTURUM CEVAP ANAHTARI**

**TÜRKÇE – 5**

1. A
2. B
3. A
4. D
5. C
6. B
7. D
8. B
9. D
10. A
11. C
12. B
13. C
14. C
15. A
16. A
17. D
18. B
19. C
20. D

**FEN ve TEKNOLOJİ – 5**

1. D
2. A
3. C
4. B
5. B
6. D
7. A
8. D
9. C
10. C
11. A
12. D
13. B
14. C
15. D
16. D
17. A
18. B
19. C
20. D

**İNGİLİZCE – 6**

1. B
2. C
3. D
4. B
5. A
6. C
7. B
8. D
9. A
10. C
11. D
12. B
13. D
14. A
15. D
16. B
17. C
18. D
19. A
20. C

**FRANSIZCA – 6**

1. C
2. B
3. A
4. D
5. A
6. D
7. D
8. C
9. B
10. C
11. A
12. B
13. A
14. D
15. C
16. C
17. A
18. B
19. B
20. C

**MATEMATİK – 5**

1. A
2. B
3. C
4. A
5. B
6. D
7. C
8. C
9. D
10. A
11. B
12. D
13. B
14. C
15. C
16. A
17. B
18. D
19. A
20. D

**SOSYAL BİLGİLER – 6**

1. D
2. D
3. B
4. C
5. A
6. D
7. A
8. C
9. B
10. A
11. C
12. B
13. A
14. D
15. C
16. C
17. A
18. B
19. D
20. C

**ALMANCA – 6**

1. B
2. A
3. C
4. C
5. C
6. C
7. A
8. B
9. B
10. D
11. A
12. B
13. C
14. D
15. B
16. C
17. D
18. D
19. C
20. A

**DİN KÜLTÜRÜ ve AHLAK  
BİLGİSİ – 6**

1. A
2. D
3. C
4. B
5. A
6. B
7. D
8. C
9. C
10. C
11. D
12. B
13. C
14. D
15. B
16. A
17. C
18. B
19. D
20. A