

O-2



T.C.
MILLÎ EĞİTİM BAKANLIĞI
ÖLÇME, DEĞERLENDİRME VE SINAV HİZMETLERİ
GENEL MÜDÜRLÜĞÜ

T

AÇIK ÖĞRETİM ORTAOKULU
2014-2015 ÖĞRETİM YILI 2. DÖNEM SINAVI
2. OTURUM: 22 MART 2015 Saat: 14.00

<u>DERSLER</u>	<u>SAYFA</u>	<u>DERSLER</u>	<u>SAYFA</u>
(504) SOSYAL BİLGİLER – 5	2	(704) SOSYAL BİLGİLER – 7	16
(507) İNGİLİZCE – 5	3	(707) İNGİLİZCE – 7	18
(507) ALMANCA – 5	5	(707) ALMANCA – 7	19
(507) FRANSIZCA – 5	7	(707) FRANSIZCA – 7	21
(508) DİN KÜL. VE AHLAK BİLGİSİ – 5	8	(708) DİN KÜL. VE AHLAK BİLGİSİ – 7	23
(601) TÜRKÇE – 6	10	(801) TÜRKÇE – 8	25
(602) MATEMATİK – 6	12	(802) MATEMATİK – 8	27
(603) FEN VE TEKNOLOJİ – 6	13	(803) FEN VE TEKNOLOJİ – 8	29

ADAYLARIN DİKKATİNE!

- Her ders için **20** soru bulunmaktadır. Bu oturumda **150** dakikalık cevaplama süreniz vardır. Sınav başladıktan sonra ilk **30** dakika dolmadan dışarı çıkmayınız.
- Sınav sırasında sözlük, hesap cetveli veya makinesi, çağrı cihazı, cep telefonu, telsiz, radyo gibi elektronik iletişim araçlarını yanınızda bulundurmuyunuz. Bu araçları kullanmanız ve kopya çekmeye teşebbüs etmeniz hâlinde sınavınız geçersiz sayılacaktır.
- Başvuru şartlarını taşımadığınız hâlde sınava girmeniz, kopya çekmeniz, başka adayın sınav evrakını kullanmanız, geçerli kimlik belgenizi ve sınav giriş belgenizi ibraz edemediğiniz durumlarda sınavınız geçersiz sayılacaktır.
- Sınavın değerlendirilmesi aşamasında, bilgisayar ortamında yapılan kopya analizinde ikili veya toplu kopya tespiti hâlinde sınavınız geçersiz sayılacaktır.

CEVAP KÂĞIDI VE SORU KİTAPÇIĞI İLE İLGİLİ AÇIKLAMALAR

- Cevap kâğıdınızdaki bilgilerin doğruluğunu kontrol ediniz ve cevap kâğıdınızı mürekkepli kalemle imzalayınız.
- Cevap kâğıdı üzerinde kodlamalarınızı kurşun kalemle yapınız.
- Değiştirmek istediğiniz bir cevabı, yumuşak silgiyle cevap kâğıdını örselemeden temizce siliniz ve yeni cevabınızı kodlayınız.
- Soru kitapçığının sayfalarını kontrol ediniz, baskı hatası var ise değiştirilmesini sağlayınız.
- Soruların çözümü için size ayrıca boş kâğıt verilmeyecektir. Soru kitapçığının içindeki boş alanları soru çözümleri için kullanabilirsiniz.
- Her sorunun dört seçeneğinden sadece biri doğrudur. Doğru seçeneği, cevap kâğıdınızın ilgili sütununa soru numarasını dikkate alarak yuvarlağın dışına taşırmadan kodlayınız. **Soru kitapçığı üzerinde yapılan cevaplandırmalar dikkate alınmayacaktır.**
- Cevaplamaya istediğiniz dersin sorusundan başlayabilirsiniz. Cevabını bilmediğiniz sorular üzerinde fazla zaman kaybetmeden diğer sorulara geçiniz. Zamanınız kalırsa bu sorulara daha sonra dönebilirsiniz.
- Yanlış cevaplarınız dikkate alınmadan sadece doğru cevaplarınız üzerinden puanlama yapılacaktır.
- Soruları ve sorulara verdiğiniz cevapları, yanınızda götürmek amacıyla kaydetmeyiniz; hiçbir şekilde dışarı çıkarmayınız.
- Sınav bitiminde, soru kitapçığı ve cevap kâğıdını salon görevlilerine teslim ediniz.**

BAŞLAYINIZ DENİLMEYEN SORU KİTAPÇIĞINI AÇMAYINIZ.

2. OTURUM

(504) SOSYAL BİLGİLER – 5

1. • Torun

- Yeğen
- Arkadaş

Verilen kavramlar, aşağıdakilerden hangisiyle ilgilidir?

- A) Haklarımızla
- B) Görevlerimizle
- C) Sorumluluklarımızla
- D) Toplum içindeki rollerimizle

2. Aşağıdakilerden hangisi 5. sınıf öğrencisinin okuldaki haklarından biri olamaz?

- A) İyi bir eğitim almak
- B) Okul araç ve gereçlerini korumak
- C) Sınıftaki öğrenci panosunu kullanmak
- D) Huzurlu bir aile ortamında yaşamak

3. Bazen oyun oynamak, bazen de ders çalışmak için bir araya gelen arkadaşlar, aşağıdakilerden hangisini oluştururlar?

- A) Grup
- B) Kurum
- C) Aile
- D) Öğrenci Kulübü

4. “Çocuk haklarını güvence altına alma görevini üstlenmiştir.”

Verilen cümlede boş bırakılan yere, aşağıdakilerden hangisi gelmelidir?

- A) Aileler
- B) Devlet
- C) Okul
- D) Komşular

5. Türkiye'nin aşağıdaki şehirlerinden hangisi Kapadokya Bölgesi'nde yer almaz?

- A) Niğde
- B) Kırşehir
- C) Eskişehir
- D) Nevşehir

6. Aşağıdakilerden hangisi kültürel değerlerimizdendir?

- A) Peri bacaları
- B) Manavgat Şelalesi
- C) Cirit karşılaşmaları
- D) Pamukkale Travertenleri

7. “Egemenlik, mutlaka milletin elinde olmalıdır...”

ATATÜRK

Aşağıdaki inkıaplardan hangisi, Atatürk'ün bu vecizesi doğrultusunda yapılmıştır?

- A) Aşar vergisinin kaldırılması
- B) Cumhuriyetin ilan edilmesi
- C) Latin alfabesinin kabul edilmesi
- D) Türk Tarih Kurumunun kurulması

8. İnsanlara, dinlerini yaşayabilme hakkını vermek, aşağıdaki hangi Atatürk ilkesinin bir gereğidir?

- A) Cumhuriyetçilik
- B) Milliyetçilik
- C) Devletçilik
- D) Laiklik

9. Mustafa Kemal Atatürk hayatı boyunca kaç “Cumhuriyet Bayramı” kutlamıştır?

- A) 16
- B) 15
- C) 12
- D) 10

10. Türkiye’de, aşağıdaki iklim tiplerinden hangisi görülmez?

- A) Karasal İklim
- B) Akdeniz İklimi
- C) Ekvatorial İklim
- D) Karadeniz İklimi

11. Doğu Anadolu Bölgesi'nin en yoğun nüfuslu ili, aşağıdakilerden hangisidir?

- A) Van
- B) Elazığ
- C) Erzurum
- D) Malatya

12. Yer kayması (Heyelan) en çok hangi bölgemizde meydana gelmektedir?

- A) Ege Bölgesi
- B) Akdeniz Bölgesi
- C) Karadeniz Bölgesi
- D) Doğu Anadolu Bölgesi

13. Türkiye kaç deprem bölgesine ayrılmıştır?

- A) 4
- B) 5
- C) 6
- D) 7

2. OTURUM

14. Ege Bölgesi'nde, aşağıdaki fabrikalardan hangisinin kurulmasında zeytin üretiminin etkisi olmuştur?

- A) İplik fabrikaları B) Süt fabrikaları
C) Yağ fabrikaları D) Kereste fabrikaları

15. "Şu topraklar cömertçe
Verir miydi buğdayı
Uğraşmasaydın mertçe
Ekmeseydin tarlayı?"

İsmail Hakkı Talas

Verilen dördlükte, aşağıdaki hangi mesleği yapan kişiden söz edilmektedir?

- A) Çoban B) Çiftçi
C) Çaycı D) Çıkrıkçı

16. Tekerleğin icadı, aşağıdakilerden hangisinin gelişmesine doğrudan katkı sağlamıştır?

- A) Bilim B) Sanat
C) Mimari D) Ulaşım

17. Yıllar önce yaşamış olan Edison ve Newton gibi şahsiyetlerin günümüzde de tanınıyor olmalarını, aşağıdakilerden hangisiyle açıklayabiliriz?

- A) Mucit olmalarıyla
B) Soylu ailelerden gelmeleriyle
C) Devlet adamı olmalarıyla
D) Amerika kıtasını keşfetmeleriyle

18. **TÜRKİYE ÇÖL OLMASIN**

Yukarıdaki slogan, hangi sivil toplum kuruluşuna ait olabilir?

- A) AKUT B) TEMA C) LÖSEV D) Yeşilay

19. Aşağıdakilerden hangisi, ülkemizde eğitimi düzenleyen ve denetleyen kurumdur?

- A) Yüksek Öğretim Kurulu
B) Bilim ve Sanat Vakfı
C) Millî Eğitim Bakanlığı
D) Eğitim Gönüllüleri Derneği

20. **YASAMA → ? → Yasa oluşturmak, değiştirmek, kaldırmak**

Verilen şemada "?" yere, aşağıdakilerden hangisi yazılmalıdır?

- A) TBMM
B) Bakanlar Kurulu
C) Bağımsız Mahkemeler
D) ÖSYM

(507) İNGİLİZCE – 5

1-20. sorularda boş bırakılan yere uygun gelen kelime ya da ifadeyi işaretleyiniz.

1. I'm interested in My hobby is playing the drums.

- A) art B) music C) cinema D) sport

2. There's always a love story in movies.

- A) horror B) comedy
C) musical D) romance

3. I like cartoons because they're

- A) boring B) scary
C) pleasant D) frightening

4. I'm from Italy. I'm

- A) Spanish B) French
C) English D) Italian

5. A lives in the sea.

- A) horse B) shark C) monkey D) sheep

6. You buy bread from a

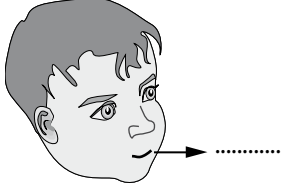
- A) bakery B) hospital
C) chemist's D) post office

2. OTURUM

7. We can't play because I don't like board games.

- A) chess B) hop scotch
C) dodge ball D) hide and seek

8.



- A) nose B) knee C) mouth D) finger

9.



This is a picture of

- A) skating B) hiking C) jogging D) cycling

10.



It's a party.

- A) pyjamas B) birthday
C) New Year's D) fancy dress

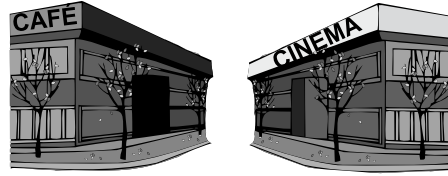
11.



She's the dog.

- A) walking B) brushing
C) feeding D) washing

12.



The cafe is the cinema.

- A) in front of B) next to
C) opposite D) between

13.

18:15

A: What's the time?

B:

- A) It's six o'clock.
B) It's half past six.
C) It's a quarter to six.
D) It's a quarter past six.

14.

Name	İrem Yıldız
Age	18
.....	İstanbul

- A) Language B) Hometown
C) Occupation D) Nationality

15.

ILLNESS	SYMPTOMS	FEELING	NEEDS
the flu	sneeze cough	cold tired blanket

- A) cold water B) fast food
C) plaster D) tissue

16. A: Ali has got a toothache. What should he do?

B: He should

- A) see a dentist B) wash his hands
C) eat fresh fruit D) drink cold water

17. A: Thank you very much for your help.

B:

- A) That's a great idea.
B) It's very funny.
C) You're welcome.
D) Yes, of course.

2. OTURUM

18. A:

B: Maths.

- A) How many languages do you speak?
- B) What's your favourite lesson?
- C) Where are you from?
- D) What's your name?

19. A:

B: By bus.

- A) What do you do after the lesson?
- B) How do you go to school?
- C) What time do you get up?
- D) How old is your father?

20. A:

B: It's ₺ 10

- A) How much is a ticket?
- B) When is the film on?
- C) What's on tonight?
- D) What time is "Dracula"?

(507) ALMANCA – 5

1-13. sorularda boş bırakılan yere uygun gelen kelime ya da ifadeyi işaretleyiniz.

1. Er hat Augen.

- A) schlank
- B) braune
- C) kurze
- D) lange

2.



In Antalya ist das Wetter

- A) regnerisch
- B) bewölkt
- C) kalt
- D) sonnig

3. März,, Mai

- A) April
- B) Juni
- C) Juli
- D) Februar

4. Hallo! Das ist meine Freundin. Sie Ayla.

- A) hat
- B) sind
- C) heißt
- D) spricht

5. A: Was trinkst du?

B: Ich Tee.

- A) trinke
- B) trinken
- C) esse
- D) essen

6. - Wie spät ist es?

- Es ist



- A) sechs Uhr
- B) sieben Uhr
- C) acht Uhr
- D) neun Uhr

7. Ali : Wann hast du Geburtstag?


Havva : Ich habe 24. März Geburtstag.

- A) im
- B) am
- C) um
- D) in

8. Helga gut English.

- A) sprechen
- B) gesprochen
- C) spricht
- D) sprichst

9.



Die Katze ist dem Bett.

- A) zwischen
- B) neben
- C) in
- D) auf

10. Ich Deutsch in der Schule.

- A) lerne
- B) lernst
- C) lernen
- D) lernt

2. OTURUM

11. Meine Hand tut weh. Ich kann nicht

- A) schreibt B) schrieb
C) schreiben D) geschrieben

12. Can : Wo bist du?


Gülay : Ich bin Cafe.

- A) auf B) in der C) in die D) im

13. Am Bahnhof

- A) kann man Fußball spielen.
B) fahren die Züge ab.
C) kann man Theater besuchen.
D) werden Kranke gesund.

14.



Was ist das?

- A) Apfel B) Orange C) Banane D) Birne

15. Kuchen / gern / Ich / esse

1 2 3 4

- A) 3 / 4 / 2 / 1 B) 2 / 1 / 3 / 4
C) 4 / 2 / 3 / 1 D) 4 / 3 / 2 / 1

16. Wie heißt der Ort?



- A) das Kino B) das Krankenhaus
C) die Post D) der Flughafen

17. Aşağıdaki boşluklara uygun gelen Artikelleri işaretleyiniz.

..... Schule, Mädchen, Ball.

- A) das / der / die B) der / die / das
C) die / der / das D) die / das / der

18. Resimdeki hangi meslektir?



- A) Lehrer B) Polizist
C) Arzt D) Ingenieur

19. Aşağıdakilerden hangisi fiildir? (Verb)

- A) schön B) klein C) groß D) gehen

20. Was macht der Junge?



- A) schreiben B) gehen
C) essen D) spielen

2. OTURUM

(507) FRANSIZCA – 5

1-15. sorularda boş bırakılan yere uygun gelen kelime ya da ifadeyi işaretleyiniz.

1. s'appelle Louis.

- A) Elle B) Il C) Je D) Tu

2. A: Tu as quel âge?

B:

- A) J'habite à Sinop B) J'ai treize ans
C) Je suis avocate D) C'est un ami

3. A: ?

B: Je suis français.

- A) Quelle est ta nationalité
B) Où habites-tu
C) Tu as quel âge
D) Quelle est ton adresse

4. A: ça va?

B: Très bien, merci. Et toi ?

- A) Pourquoi B) Quelle
C) Parce que D) Comment

5. Nicole est française, mais elle à İstanbul.

- A) habite B) avez C) êtes D) habites

6. Türkân français.

- A) parles B) parler C) parlé D) parle

7. J'habite France.

- A) en B) à C) au D) dans

8. Alice: Tu as un stylo ?

Paul : Non, je n'ai pas stylo.

- A) le B) le C) de D) des

9. A : ?

B : C'est une gomme.

- A) C'est qui B) C'est quoi
C) Qui est-ce D) Combien

10. Je (J') un chat noir chez moi.

- A) es B) as C) ai D) est

11. Le cheval a quatre pattes. Il

- A) vole B) court C) lit D) sautes

12. A:?

B: C'est un sac à dos.


- A) Il est quelle heure B) Qui est-ce
C) Quelle couleur D) Qu'est-ce que c'est

13. Tu habites ?

- A) Où B) Qu'est-ce que
C) C'est quoi D) Quelle

14-20. soruları resimleri dikkate alarak cevaplayınız.

14.




..... à Paris

- A) Il y a du vent B) Il fait chaud
C) Il y a du soleil D) Il pleut

2. OTURUM

15.



..... à Ankara

- A) Il fait froid B) Il pleut
C) Il y a du soleil D) Il y a du vent

16.



..... il fait très froid.

- A) En hiver B) Au printemps
C) En été D) En automne

17.



- A) Il est sept heures B) Il est huit heures
C) Il est dix heures D) Il est cinq heures

18.



Il est

- A) médecin B) cuisinier
C) ingénieur D) pharmacien

19.



Il va à l'école

- A) à moto B) à pied C) à vélo D) à cheval

20.



- A) Tourner à gauche B) Aller tout droit
C) Traverser le pont D) Aller à droite

(508) DİN KÜL. VE AHLAK BİLGİSİ – 5

1. • Düşünür ve olayları kavrar.
• Olaylar arasında neden - sonuç ilişkisi kurar.
• Benzerliklerin ve farklılıkların bilincine varır.
Bu bilgiler aşağıdakilerden hangisi ile ilgilidir?

- A) Vicdan B) İrade C) Kalp D) Akıl

2. Kâbe'nin yanında bulunan gruptan biri; "Acaba Allah bizim bu konuştuklarımızı işitiyor mu?" dedi. İçlerinden biri "Eğer sesli konuşursak bizi işitir, sessiz konuşursak işitmez." diye cevap verdi. Bir diğeri de "Eğer sesli konuştuğumuzda işitiyorsa, gizli konuştuğumuzda da işitir." diye yorumda bulundu.

Bu metinde Allah'ın sıfatlarından hangisinden söz edilmektedir?

- A) Semi B) Basar
C) Tekvin D) Vahdaniyet

3. İhlas suresinde, aşağıdakilerden hangisi yer almaz?

- A) Allah'ın birliği
B) Allah'ın hiçbir şeye muhtaç olmadığı
C) Allah'ın her şeyi bildiği
D) Allah'ın benzerinin olmadığı

2. OTURUM

4. Aşağıdaki ibadetlerin hangisinde vakit şartı aranmaz?

- A) Hac B) Sadaka
C) Oruç D) Namaz

5. Aşağıdakilerden hangisi farz bir ibadettir?

- A) Zekat B) Vitir namazı
C) Bayram namazı D) Kurban

6. Camide imamın namaz kıldırıldığı yere ne denir?

- A) Kürsü B) Minber
C) Mihrap D) Minare

7. Aşağıdaki davranışlardan hangisi "salih amel" kapsamında değerlendirilemez?

- A) Otobüslerde yaşlılara yer vermek
B) Arkadaşının sırrını başkasına söylemek
C) Ağaç dikme etkinliklerine katılmak
D) Hasta ziyaretinde bulunmak

8. "Allah'a ve ahiret gününe iman eden kimse misafirine ikramda bulunsun."

(Hadis-i Şerif)

Bu hadis aşağıdakilerden hangisiyle ilişkilendirilemez?

- A) Sorumluluk B) Cömertlik
C) Dayanışma D) İsrraftan kaçınmak

9. • Irk ve renk ayrımını ortadan kaldırır.

- Farklı kültürdeki Müslümanları bir araya getirir.
- Müslümanların yılda bir kere aynı duygu ve düşünce etrafında toplanmasını sağlar.

Hakkında bilgi verilen ibadet aşağıdakilerden hangisidir?

- A) Hac B) Oruç C) Zekat D) Namaz

10. Aşağıdakilerden hangisinde anne - baba ve tüm inananlara dua edilir?

- A) Salli-Barik B) Tahiyat
C) Rabbena D) Sübhaneke

11. Hz. Muhammed'in aile içindeki davranışlarıyla ilgili olarak aşağıdakilerden hangisi söylenemez?

- A) Çocukları arasında ayırım yapmadığı
B) Aile bireyleriyle istişare etmeyi sevdiği
C) Kendi sorumluluklarını ihmal etmediği
D) Acı ve sıkıntılarını başkalarıyla paylaşmadığı

12. Hz. Muhammed, Hz. Ali'yi çocukluğunda yanına alıp ihtiyaçlarını üstlenmiştir. Hz. Muhammed'in bu davranışı onun hangi yönüyle ilişkilendirilebilir?

- A) Geleneklere bağlı olması
B) Müslümanlara sahip çıkması
C) Yetim ve öksüzleri gözetmesi
D) Akrabalık ilişkilerine önem vermesi

13. Aşağıdakilerden hangisi Kur'an-ı Kerim'in başlıca konularından biri değildir?

- A) İnanç B) Coğrafya
C) Ahlak D) İbadet

14. Kur'an-ı Kerim'in Arapça olarak indirilmesinin asıl sebebi aşağıdakilerden hangisidir?

- A) Arapça'nın evrensel bir dil olması
B) Arapça'nın zengin bir dil olması
C) Arapça'nın sanat ve edebiyat dili olması
D) Kur'an'ın indiği toplumun dilinin Arapça olması

15. Recep ayının 27. gecesinde kutlanan kandil aşağıdakilerden hangisidir?

- A) Regaip B) Miraç
C) Berat D) Mevlit

16. Cuma namazı ile ilgili aşağıda verilen bilgilerden hangisi yanlıştır?

- A) Öğle namazından sonra kılınır.
B) Cemaatle kılınması gerekir.
C) Hutbe okunan bir namazdır.
D) Müslümanların birlik ve beraberliğine vesile olur.

2. OTURUM

17. İbadet ile ilgili aşağıdakilerden hangisi yanlıştır?

- A) Her türlü güzel davranış ibadettir.
- B) İbadetlerin birtakım sosyal faydaları vardır.
- C) İbadetler gösterişli şekilde yapılmalıdır.
- D) Allah rızasını kazanmak için yapılmalıdır.

18. Ya açar Nazm-ı Celil'in bakarız yaprağına
Ya üfler geçeriz bir ölünün toprağına
İnmemiştir hele Kur'an, şunu hakkıyla bilin
Ne mezarlıkta okunmak ne de fal bakmak için
(Mehmet Akif Ersoy)

Bu dörtlüğün ana düşüncesi aşağıdakilerden hangisidir?

- A) Kur'an'ın gönderiliş amacına uygun davranışlar sergilenmediği
- B) Mezarlıklarda Kur'an-Kerim okumanın uygun olmadığı
- C) Kur'an-ı Kerim'in fal bakmayı uygun görmediği
- D) Müslümanlar'ın Kur'an-ı Kerim'i her zaman okumaları gerektiği

19. Genellikle aynı topraklarda yaşayan, birbirlerine ortak değerlerle bağlı, bir arada yaşama iradesine sahip insan topluluğunu ifade eden kavram aşağıdakilerden hangisidir?

- A) Vatan
- B) Millet
- C) Devlet
- D) Hürriyet

20. Bayrağımız bize, bağımsız bir vatan üzerinde birlikte yaşamının anlam ve önemini hatırlatır. O, Türkiye Cumhuriyeti'nin bağımsızlık sembolüdür.

Bu paragraf, aşağıdaki sorulardan hangisine cevap oluşturur?

- A) Bayrağımız neyi ifade eder?
- B) Bayrağımıza nasıl saygı duyalım?
- C) Maddi değerlerimiz nelerdir?
- D) Bayrağımızdaki ay ve yıldız neyi sembolize eder?

(601) TÜRKÇE – 6

1. "İl-vilayet" sözcükleri arasındaki anlam ilişkisi aşağıdakilerin hangisinde vardır?

- A) Büyük- küçük
- B) Sert - yumuşak
- C) İnce - kalın
- D) Güçlü - kuvvetli

2. "İç" sözcüğü aşağıdakilerin hangisinde "Yurt içi ulaşım imkânları gittikçe artıyor." cümlesindeki anlamıyla kullanılmıştır?

- A) Şehir içindeki müzeleri tek tek gezdik.
- B) Annem ceviz içi büyüklüğünde köfteler yaptı.
- C) İçimde bir çift fanila ile gene de titriyordum.
- D) Deniz gecenin içinde, gece denizin içindedir.

3. Aşağıdakilerin hangisinde altı çizili sözcük terim anlamıyla kullanılmamıştır?

- A) Bağlamanın akordunu ayarlamak, vaktini almıştı.
- B) Bu mevsimde akarsuların debisi artar.
- C) Anlatmakla tükenmez güzellikte bir mazisi vardı.
- D) Oyunun üç perdesi de alkış aldı.

4. Aşağıdaki cümlelerin hangisinde "el" sözcüğü diğerleriyle sesteştir?

- A) El elin eşeğini türkü çağırarak arar.
- B) El elin nesine gülerek gider yasına.
- C) El yarası onulur, dil yarası onulmaz.
- D) El kazanıyla aş kaynamaz.

5. "Son pişmanlık fayda vermez." atasözünün anlamına en yakın atasözü aşağıdakilerden hangisidir?

- A) Dost kara günde belli olur.
- B) Bin ölçüp bir biçmeli.
- C) Erken kalkan yol alır.
- D) Ayağını yorganına göre uzat.

6. "Usta yazar, uzun ve güzel bir ömür sürdükten sonra dünyaya gözlerini kapadı."

Bu cümledeki altı çizili deyim anlamı aşağıdakilerden hangisidir?

- A) Vefat etmek
- B) Uykuya dalmak
- C) Dinlenmek
- D) Düşünmek

2. OTURUM

7. Aşağıdaki cümlelerin hangisinde sebep-sonuç ilişkisi vardır?

- A) Babam bu sabah evden çok geç çıktı.
- B) Sobamız yanmadığı için misafirlerimiz üşümüştü.
- C) Gece yaralarına kadar çalışmak ona göre değildi.
- D) Her gün akşam yemeğinden sonra dayısını arardı.

8. 1. onları
2. önemlidir
3. konuşan
4. ağızlar
5. değil
6. kelimeler

Numaralandırılmış sözcükler, anlamlı ve kurallı bir cümle oluşturmak için nasıl sıralanmalıdır?

- A) 4, 2, 1, 3, 5, 6
- B) 6, 3, 1, 5, 2, 4
- C) 6, 5, 1, 3, 4, 2
- D) 4, 3, 6, 5, 2, 1

9. Hikâyede, olayın geçtiği yer ve olayla ilişkisi olan kişi ya da kişilerin tanıtıldığı bölüme ne ad verilir?

- A) Düğüm
- B) Çözüm
- C) Gelişme
- D) Serim

10. Çocukluğum, çocukluğum...
Uzakta kalan bahçeler.
O sabahlar, o geceler,
Gelmez günler çocukluğum.

Bu şiirin ana duygusu aşağıdakilerden hangisidir?

- A) Özgürlük
- B) Özlem
- C) Yalnızlık
- D) Umut

11. Aşağıdakilerden hangisi belirtili isim tamlamasıdır?

- A) Çoban çeşmesi
- B) Gurbet duygusu
- C) Kumruların sesi
- D) İhlamur kokusu

12. Aşağıdakilerden hangisinde soyut ve somut sözcükler birlikte verilmiştir?

- A) Hüzün - mutluluk
- B) Ağaç - kuş
- C) Sevinç - düşünce
- D) Çiçek - özgürlük

13. "Bazıları çalan zilin sesiyle ayağa kalktı." cümlesindeki zamirin çeşidi aşağıdakilerden hangisidir?

- A) Belgisiz zamir
- B) Kişi zamiri
- C) Soru zamiri
- D) İşaret zamiri

14. "Yazmışlar" eyleminin kip ve kişisi aşağıdakilerden hangisidir?

- A) Şimdiki zaman, 1. tekil kişi
- B) Duyulan geçmiş zaman, 3. çoğul kişi
- C) Gelecek zaman, 2. tekil kişi
- D) Bilinen geçmiş zaman, 2. çoğul kişi

15. "Sabahleyin ev ... " ifadesi, aşağıdakilerin hangisiyle tamamlanırsa "ev" sözcüğü bulunma anlamı taşıyan bir ek alır?

- A) -den çıkmıştık.
- B) -e gidecektik.
- C) -i temizledik.
- D) -de kalacağız.

16. Aşağıdaki sözcüklerden hangisi büyük ünlü (kalınlık - incelik) uyumuna uymaz?

- A) Gülüyor
- B) Üzüm
- C) Oduncu
- D) Güneşlik

17. "Köpek, giysileri iyice kokladı." cümlesindeki altı çizili sözcükte hangi ses olayı vardır?

- A) Ünsüz benzeşmesi
- B) Ünlü daralması
- C) Ünlü düşmesi
- D) Ünsüz yumuşaması

18. Aşağıdaki cümlelerin hangisinde "ki" doğru yazılmıştır?

- A) O kadar yoruldum ki yerimden kalkamıyorum.
- B) Sende ki araba bende olacaktı...
- C) Evde ki yemekleri bugün bitirmeliyiz.
- D) Komşuların ki daha güzel olmuştu.

19. Aşağıdaki cümlelerin hangisinde "ile" bağlaç görevinde kullanılmıştır?

- A) Elinde bir demet çiçek ile bekliyordu.
- B) Kahverengi bir pantolon ile sarı bir kazak giyindi.
- C) Büyük bir heyecan ile yatağından kalktı.
- D) Kendi kafası ile düşünüp karar verenlerdendir.

2. OTURUM

20. Aşağıdakilerden hangisi virgülün kullanıldığı yerlerden biri değildir?

- A) Anlama güç kazandırmak için tekrarlanan kelimeler arasına konur.
 B) Tırnak içinde olmayan aktarma cümlelerinden sonra konur.
 C) Hitap için kullanılan kelimelerden sonra konur.
 D) Kısaltmalara getirilen ekleri ayırmak için konur.

(602) MATEMATİK – 6

1. 10^3 ifadesinin değeri aşağıdakilerden hangisidir?

- A) 30 B) 100 C) 103 D) 1000

2. Aşağıdaki doğal sayılardan hangisi 6 ile kalan-
sız bölünür?

- A) 11 476 B) 20 262 C) 63 896 D) 99 009

3. Aşağıdakilerden hangisi bir asal sayıdır?

- A) 91 B) 41 C) 39 D) 27

4. Aşağıdaki sıralamalardan hangisi doğrudur?

- A) $12 > -5 > -15$ B) $12 > -15 > -5$
 C) $-15 > -5 > 12$ D) $-15 > 12 > -5$

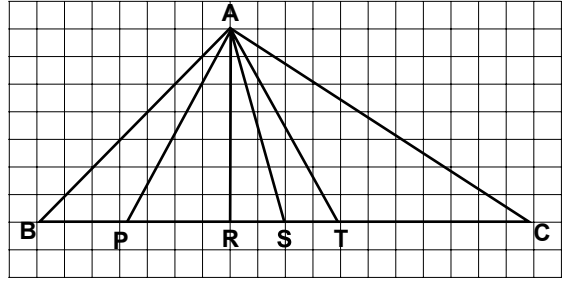
5. Bir alışveriş merkezinde asansöre binen bir kişi bulunduğu kattan 5 kat aşağı indiğinde kat -2'de olduğunu görmüştür. Buna göre, bu kişi asansöre hangi katta binmiştir?

- A) 1 B) 2 C) 3 D) 4

6. $\frac{0,001}{0,01}$ işleminin sonucu kaçtır?

- A) 10 B) 1 C) 0,1 D) 0,01

7.



Aşağıdakilerden hangisi ABC üçgeninin yüksekliğidir?

- A) [AP] B) [AR] C) [AS] D) [AT]

8. $2\frac{3}{7} + 3$ işleminin sonucu aşağıdakilerden hangisidir?

- A) $2\frac{6}{7}$ B) $2\frac{3}{10}$ C) $5\frac{3}{7}$ D) $5\frac{3}{10}$

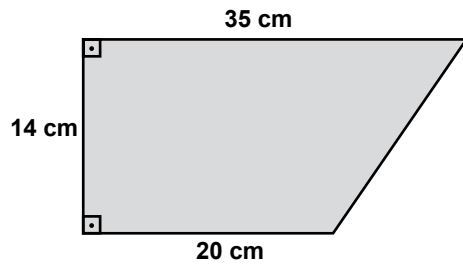
9. "Cebimdeki bilyelerin sayısının 3 katının yarısı" cümlesinin cebirsel olarak ifadesi aşağıdakilerden hangisidir?

- A) $\frac{2p}{3}$ B) $\frac{3k}{2}$ C) $\frac{3}{2m}$ D) $\frac{n}{6}$

10. $\frac{1}{4}$ kesrinde kaç tane $\frac{1}{8}$ kesrinin olduğunu bulmak için aşağıdaki işlemlerden hangisi yapılır?

- A) $\frac{1}{4} : 8$ B) $8 : \frac{1}{4}$ C) $\frac{1}{8} : \frac{1}{4}$ D) $\frac{1}{4} : \frac{1}{8}$

11.



Yukarıdaki boyalı şeklin alanı kaç santimetrekaredir?

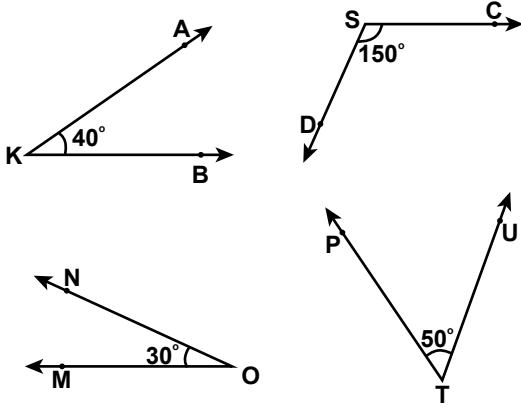
- A) 110 B) 280 C) 325 D) 385

12. $(7 \times 10) + (3 \times 1) + (2 \times 0,1) + (8 \times 0,001)$ çözümlenmiş biçimi ile verilen ondalık kesir aşağıdakilerden hangisidir?

- A) 73,028 B) 73,208
 C) 73,28 D) 732,008

2. OTURUM

13.



Yukarıda ölçüleri verilen hangi iki açı tumlardır?

- A) \widehat{AKB} ile \widehat{PTU} B) \widehat{AKB} ile \widehat{DSC}
C) \widehat{AKB} ile \widehat{MON} D) \widehat{DSC} ile \widehat{PTU}

14. 12 kız öğrencinin bulunduğu bir sınıfta toplam 33 öğrenci bulunmaktadır. Bu sınıftaki kız öğrencilerin sayısının erkek öğrencilerin sayısına oranı nedir?

- A) $\frac{4}{11}$ B) $\frac{7}{11}$ C) $\frac{3}{7}$ D) $\frac{4}{7}$

15. Yarıçapı 3 cm olan çemberin uzunluğu kaç santimetredir? (π 'yi 3 alınız.)

- A) 36 B) 24 C) 18 D) 9

16. 0,75 litre kaç mililitredir?

- A) 0,075 B) 7,5 C) 75 D) 750

17. Taban ayrıtlarından birinin uzunluğu 6 cm ve yüksekliği 8 cm olan kare dik prizmanın hacmi kaç santimetreküptür?

- A) 48 B) 186 C) 288 D) 384

18. $0,005 \text{ m}^3$ kaç santimetreküptür?

- A) 5000 B) 500 C) 50 D) 5

19. Yaşlarının aritmetik ortalaması 14 olan beş kişiden dördünün yaşları 10, 22, 9 ve 19'dur. Buna göre beşinci kişinin yaşı kaçtır?

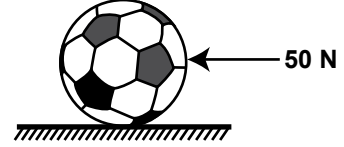
- A) 10 B) 9 C) 8 D) 7

20. Kuralı $(9n - 7)$ olan bir dizinin 6. terimi kaçtır?

- A) 56 B) 47 C) 46 D) 37

(603) FEN VE TEKNOLOJİ – 6

1. Yatay zemin üzerinde duran futbol topu, zemine paralel olan 50 N'luk kuvvetle, şekildeki yönde hareket ediyor.



Bu futbol topunu durdurmak için hangi yönde, kaç N'luk kuvvet uygulanmalıdır?

Yön	Kuvvet (N)
A) \rightarrow	50
B) \leftarrow	40
C) \rightarrow	40
D) \leftarrow	50

2. Öğrenciler, kütle ve ağırlık kavramlarına ait aşağıdaki bilgileri veriyorlar.



Buna göre, hangi öğrencilerin verdiği bilgiler ağırlığa aittir?

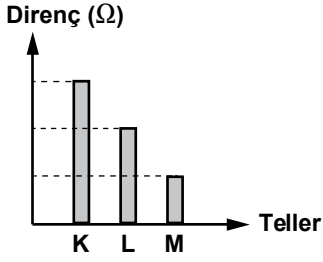
- A) Ayşe ve Emre B) Emre ve Can
C) Ayşe ve Seçil D) Can ve Seçil

3. Aşağıdakilerden hangisi, elektrik çarpmalarına karşı alınabilecek önlemlerden biridir?

- A) Yıpranmış kabloları kullanmak
B) Kabloları kesik elektrik direklerinden uzak durmak
C) Elektrik prizlerine yabancı cisim sokmak
D) Banyo gibi nemli yerlerde elektrikli araç kullanmak

2. OTURUM

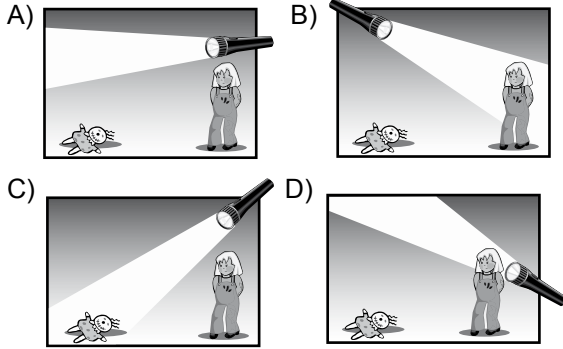
4. Aynı maddeden yapılmış ve dik kesit alanları aynı olan tellerin direnç büyüklük değerleri grafikte gösterilmiştir.



Grafiğe göre aşağıdakilerden hangisi söylenebilir?

- A) K teli en kısa teldir.
B) M teli, L telinden daha uzundur.
C) M telinin direnci en fazladır.
D) K telinin iletkenliği en azdır.

5. Zeynep, karanlık odasında oyuncak bebeğini aramaktadır. Aşağıda verilen durumların hangisinde Zeynep, oyuncak bebeğini kesinlikle görür?



6. Bir tiyatro salonunun arka koltuğunda oturan izleyiciler, oyuncuların sesini daha az duyarlar. Bu durum, sesin hangi özelliğinden kaynaklanmaktadır?

- A) Görülmemesi fakat etkilerinin hissedilmesi
B) Her yönde dalgalar halinde yayılması
C) Sert yüzeye çarpıp kaynağa geri dönmesi
D) Soğurularak kulağımıza gelen miktarın azalması

7. Bir toprak türüne ait özellikler panoda verilmiştir.

- Sert bir yapıya sahiptir.
- Isıya dayanıklıdır.
- Seramik, tuğla, kiremit yapımında kullanılır.

Buna göre, özellikleri verilen toprak türü aşağıdakilerden hangisidir?

- A) Killi B) Kumlu
C) Kireçli D) Humuslu

8. Aşağıdakilerden hangisi doğal anıtlara örnek verilebilir?

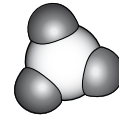
- A) Anıtkabir B) Selimiye Cami
C) Damlatış Mağarası D) Topkapı Sarayı

9. Elif, yarısına kadar suyla dolu cam bardağın içine damlalık ile birkaç damla mürekkep damlatıyor. Kısa bir süre sonra mürekkebin, suyun tamamına yayıldığını gözlemliyor.

Bu gözleme göre Elif, su ve mürekkep ile ilgili aşağıdakilerden hangisine ulaşabilir?

- A) Taneciklerinin hareketsiz olduğuna
B) Tanecikleri arasında boşluk olmadığına
C) Gözle görülebilecek kadar sıkıştırılabildiklerine
D) Görünmez küçük parçacıklardan oluştuğuna

10. Bir maddenin molekülüne ait tanecik modeli aşağıda verilmiştir.



Bu molekül kaç farklı atomdan oluşmuştur?

- A) 1 B) 2 C) 3 D) 4

11. Aşağıda bazı olaylar verilmiştir.

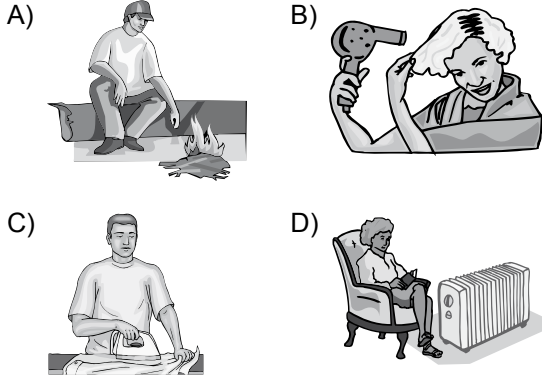
- I. Dondurmanın erimesi
II. Yaprığın sararması
III. Limonun küflenmesi
IV. Domatesin doğranması

Bu olaylardan hangileri kimyasal değişime örnektir?

- A) I ve II B) I ve IV
C) II ve III D) III ve IV

2. OTURUM

12. Aşağıdaki durumların hangisinde ısı, ışımaya yoluyla yayılmıştır?

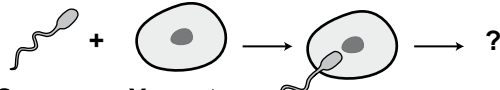


13. Bir binada ısı yalıtım malzemesi olarak aşağıdakilerden hangisi tercih edilir?

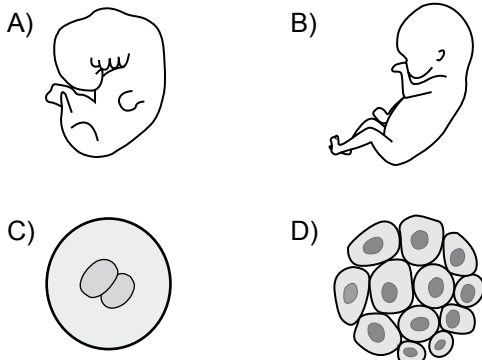
- A) Demir B) Bakır
C) Alüminyum D) Ahşap

14. Ayşe, yanağının iç yüzeyinden aldığı epitel hücreleri mikroskopta inceliyor. Aşağıdaki yapılardan hangisini bu hücrelerde göremez?

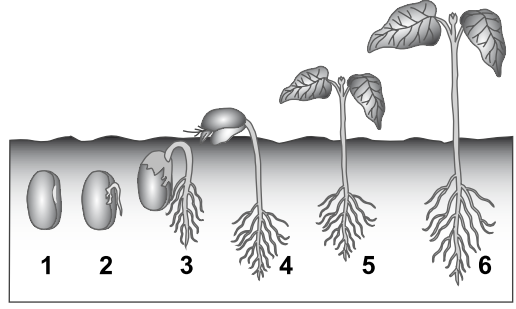
- A) Sitoplazma B) Mitokondri
C) Kloroplast D) Çekirdek

15.  ?
Sperm Yumurta

Bir öğrenci insanın gelişim dönemlerini şekillerle anlatmak istiyor. Aşağıda verilen şekillerin hepsini sırasıyla kullanmak isteyen öğrenci “?” yerine hangisini seçmelidir?



16.



Şekilde fasulye bitkisinin gelişim aşamaları verilmiştir. Çimlenme evresi kaç numaralı şekiller arasında gösterilmiştir?

- A) 1 ve 4 B) 3 ve 4
C) 4 ve 5 D) 4 ve 6

17. Aşağıdakilerden hangisi organik tarım uygulamalarından değildir?

- A) Nöbetleşe ekim yapmak
B) Kimyasal tarım ilacı kullanmak
C) Doğal enerji kaynaklarından yararlanmak
D) Zararlılarla biyolojik yöntemlerle savaşmak

18. Vücudumuzda düz kaslar mide, bağırsak ve kan damarlarının yapısında bulunur. Aşağıdakilerden hangisi düz kasların özelliklerinden değildir?

- A) Hücreleri uzun ve mekik şeklindedir.
B) Vücut kemiklerine bağlıdır.
C) Kasılma ve gevşeme şeklinde hareket ederler.
D) Çalışması yavaş, düzenli ve uzun sürelidir.

19. Bir öğrenci, vücudumuzdaki sistemlerden birinde yer alan yapı ve organları şekildeki tabloya yazıyor.

Akciğer	Burun	Bronş
Alveol	Bronşçuk	
Soluk borusu	Gırtlak	

Buna göre eksik kalan yerlere aşağıdakilerin hangisinde verilenleri yazmalıdır?

- A) Kalp, eklem B) Kas, kemik
C) Lenf, kıkırdak D) Yutak, diyafram

2. OTURUM

20. • Beyaz kan hücreleri de denir.
• Vücudu yabancı maddelere ve hastalık yapan mikroorganizmalara karşı korumakla görevlidir.
• Çekirdekleri vardır.

Yukarıda kandaki hangi yapının özellikleri verilmiştir?

- A) Akyuvar B) Alyuvar
C) Kan pulcuğu D) Kan plazması

(704) SOSYAL BİLGİLER – 7

1. Ülkemizde radyo ve televizyon yayınlarını düzenleyen ve denetleyen kuruluşun kısa adı, aşağıdakilerden hangisidir?

- A) TRT B) PTT
C) RTÜK D) Anadolu Ajansı

2. Bir kişi ya da kurum hakkında gerçeğe aykırı yayın yapıldığında, yayını yapan ilgili kitle iletişim araçlarından yayımlanması istenen “cevap ve düzeltme yazısına” ne ad verilir?

- A) Sansür B) Tekzip
C) Saptırma D) Kanaat özgürlüğü

3. Millî Mücadele yıllarında, aşağıdaki iletişim araçlarından hangisi kullanılmamıştır?

- A) Mektup B) Telgraf
C) Gazete D) Televizyon

4. Aşağıdakilerden hangisi ülkemizde nüfus yoğunluğunun farklı dağılmasına sebep olan unsurlardan biri değildir?

- A) Dağlar B) Ormanlar
C) Yağış miktarı D) İl sınırları

5. “Haydi Kızlar Okula” kampanyası UNICEF ve iş birliği ile yürütülmektedir.

Verilen cümlede boş bırakılan yere, aşağıdaki bakanlıklardan hangisi getirilmelidir?

- A) Millî Eğitim Bakanlığı
B) İçişleri Bakanlığı
C) Dışişleri Bakanlığı
D) Sağlık Bakanlığı

6. Aşağıdaki savaşlardan hangisi “Türkiye Tarihi” kapsamı içerisinde sayılamaz?

- A) Talas Savaşı B) Pasinler Savaşı
C) Malazgirt Savaşı D) Miryokefalon Savaşı

7. UNESCO tarafından korunması gerekli dünya mirası listesine alınan Divriği’deki Ulu Camii ve hastaneyi, geleneksel taş işçiliği ile inşa eden Türk beyliği, aşağıdakilerden hangisidir?

- A) Saltuklular B) Artuklular
C) Mengücekliler D) Danişmentliler

8. Türkiye Selçukluları, aşağıdaki hangi hükümdarları zamanında siyasi, ekonomik ve kültürel yönden en parlak dönemlerini yaşamışlardır?

- A) II. Kılıç Arslan
B) I. İzzeddin Keykâvus
C) I. Alâeddin Keykûbat
D) I. Gıyaseddin Keyhüsrev

9. Haçlı ordusuna Anadolu’ya geçişinde aşağıdaki devletlerden hangisi yardımcı olmuştur?

- A) Moğollar
B) Venedikliler
C) Memlûkler
D) Bizans İmparatorluğu

10. Oğuzların Kayı boyuna bağlı Türklerin Söğüt ve Domaniç çevresinde kurduğu beylik, aşağıdakilerden hangisidir?

- A) Eretna Devleti
B) Osmanlı Beyliği
C) Germiyoğulları Beyliği
D) Karamanoğulları Beyliği

2. OTURUM

11. Aşağıdaki savaşlardan hangisinin sonucunda Osmanlılar, Balkanlarda kesin olarak Türk egemenliğini sağlamışlardır?

- A) Varna B) Ankara
C) I. Kosova D) II. Kosova

12. İstanbul'un yalnız önemli kara ve deniz ticaret yolları üzerinde bulunması nedeniyle fethi, Osmanlı Devleti'ne aşağıdakilerden hangisi açısından katkı sağlar?

- A) Ekonomik B) Askerî
C) Siyasi D) İdari

13. Osmanlılarda telgraf ilk defa aşağıdaki savaşların hangisinde kullanılmıştır?

- A) Varna B) Kırım
C) I. Balkan D) Trablusgarp

14. "İstanbul tuhaf bir şehir. Dört millet bir arada yaşıyor ve birbirlerinden nefret etmiyorlar..."

Gerard de Nerval
Fransız Edebiyatçısı

Fransız edebiyatçısı, yukarıdaki anlatımıyla Osmanlı toplumunun hangi özelliğine vurgu yapmaktadır?

- A) Dindarlığına B) Savaşçılığına
C) Hoşgörüsüne D) Zenginliğine

15. Bir ülkenin tarım, ticaret ve sanayisinin gelişmiş olması öncelikle aşağıdaki alanların hangisinde güçlü olmasını sağlar?

- A) Dinî B) Askerî
C) Ekonomik D) Bilimsel

16. • Fiziksel özelliklerimiz
• İlgi ve yeteneklerimiz,

aşağıdakilerden hangisini belirlememizde etkili değildir?

- A) Din B) Hobi C) Meslek D) Okul

17. Tarih, İlk Çağda bilim dalı olarak ilk defa aşağıdaki ülkelerin hangisinde ortaya çıkmıştır?

- A) İran B) Çin
C) Mısır D) Yunanistan

18. Martin Luther; "Tanrı ile kul arasında kimse giremez. Günahlar para ve mal karşılığı affedilemez. Günahları ancak Tanrı affedebilir. Kilisenin malları elinden alınmalıdır." sözleriyle Avrupa'da aşağıdakilerden hangisinin öncülüğünü yapmıştır?

- A) Sömürgeciliğin
B) Dinde yenilenmenin
C) Coğrafi keşiflerin
D) Sanayi İnkılabı'nın başlamasının

19. Aşağıdakilerden hangisiyle ülkemizde demokratik bir yönetim kurulmuştur?

- A) Kurtuluş Savaşı'nın kazanılmasıyla
B) Medreselerin kapatılmasıyla
C) Saltanatın kaldırılmasıyla
D) TBMM'nin açılmasıyla

20. I. Dünya Savaşı, Avusturya-Macaristan İmparatorluğu'nun aşağıdaki devletlerden hangisine saldırmasıyla başlamıştır?

- A) Sırbistan B) İtalya
C) Osmanlı D) Rusya

2. OTURUM

(707) İNGİLİZCE – 7

1- 17. sorularda boş bırakılan yere uygun gelen kelime ya da ifadeyi işaretleyiniz.

1. Martha isn't beautiful as Susan.

- A) if B) by C) as D) of

2. They here 2 hours ago.

- A) have B) were C) are D) did

3. Can you bring that newspaper, please?

- A) myself B) mine C) my D) me

4. Ankara isn't crowded than İstanbul.

- A) most B) many C) more D) much

5. The hotel is the school.

- A) opposite B) above
C) under D) below

6. We watched TV dinner.

- A) while B) because
C) when D) after

7. It's raining

- A) busily B) heavily
C) neatly D) softly

8. I get up at seven o'clock

- A) at the moment B) every morning
C) last week D) next month

9.



They're now.

- A) sleeping B) driving
C) dancing D) swimming

10. It at the moment.

- A) snows B) snowed
C) to snow D) is snowing

11. If I weren't so hungry, I you some apple pie.

- A) would give B) will give
C) give D) gave

12. She's late to the airport. She has to

- A) wear thick clothes B) wear her uniform
C) pass her exams D) take a taxi

13. Look at those black clouds!

- A) The sun is shining.
B) It is going to rain.
C) The birds are flying.
D) We will have a picnic.

14. when I was young. Now, I prefer tea.

- A) I used to drink coffee
B) I always drove carefully
C) I was taller than my sister
D) I had to go to work on time

2. OTURUM

15. because she did her homework.

- A) She's drinking tea in the kitchen
- B) She always goes to school by train
- C) She didn't go to cinema yesterday
- D) She's going to fly to Paris tomorrow

16. I'm not good at music.

- A) My father can't use a computer.
- B) She can speak German fluently.
- C) I can't play the piano well.
- D) He can ride a bicycle fast.

17. A:

B: Once a day.

- A) How often do you drink milk?
- B) When did you leave the office?
- C) What are you doing at the moment?
- D) Where are you going for your holiday?

18. - 20. soruları aşağıdaki tabloya göre cevaplayınız.

	Age	Weight	Height
Cemre	3	16 kg	98 cm
Öykü	6	19 kg	100 cm
Ceyda	4	17 kg	95 cm
Alya	5	21 kg	104 cm

18. Alya is than Öykü.

- A) older
- B) fatter
- C) shorter
- D) thinner

19. is the shortest.

- A) Öykü
- B) Cemre
- C) Alya
- D) Ceyda

20. Who is the youngest?

- A) Öykü
- B) Ceyda
- C) Cemre
- D) Alya

(707) ALMANCA – 7

1-18. sorularda boş bırakılan yere uygun gelen kelime ya da ifadeyi işaretleyiniz.

1. Ali und Ayşe am 10. Juni Geburtstag.

- A) haben
- B) hat
- C) habe
- D) hast

2. 12 Monate sind

- A) ein Tag
- B) ein Monat
- C) ein Jahr
- D) eine Woche

3. Ich bade

- A) in der Küche
- B) im Wohnzimmer
- C) im Kinderzimmer
- D) im Badezimmer

4. A: spät ist es?

B: Es ist acht Uhr.

- A) Wann
- B) Wo
- C) Wie
- D) Was

5. A: Hast du eine neue Tasche?

B: Nein, ich habe neue Tasche.

- A) ein
- B) eine
- C) kein
- D) keine

6. A: Wo ist der Ball?

B: Der Ball ist Tisch.



- A) auf dem
- B) unter dem
- C) neben der
- D) in der

7. Ich Kopfschmerzen.

- A) habe
- B) haben
- C) bin
- D) ist

2. OTURUM

8. A: Was hat Gülay gekauft?

B: Gülay hat Hose gekauft.

- A) ein B) eine C) einen D) eins

9. Ahmet nicht um 9 Uhr schlafen.

- A) will B) wollen C) wollt D) willst

10. Kind : du mir zehn Lira geben, Vater?
Vater : Ja, ich

- A) Können / kann B) Könnte / kannst
C) Kannst / kann D) Kannst / kannst

11. A: Wem kaufst du Blume?
B: Ich kaufe meiner Mutter.

- A) der / des B) das / den
C) die / den D) die / sie

12. Der Film um 16.00 Uhr

- A) fängt / an B) steigt / auf
C) fährt / ab D) steht / auf

13. Ali : kommst du Hans?
Hans : Ich komme aus Deutschland.

- A) Wann B) Woher C) Wo D) Wie

14. A: Wie schmeckt das Essen?
B: Danke, es schmeckt mir gut.

- A) mich B) dich C) du D) dir

15. Mai,, Juli.

- A) März B) Februar
C) Juni D) September

16. A: hast du Geburtstag?

B: Ich habe 17. November Geburtstag.

- A) Wem / um B) Wann / am
C) Wo / am D) Wann / um

17. A: Ist Post für dich?

B: Nein, ist für Sibel.

- A) die / sie B) der / die
C) das / es D) die / er

18. 7 Tage sind

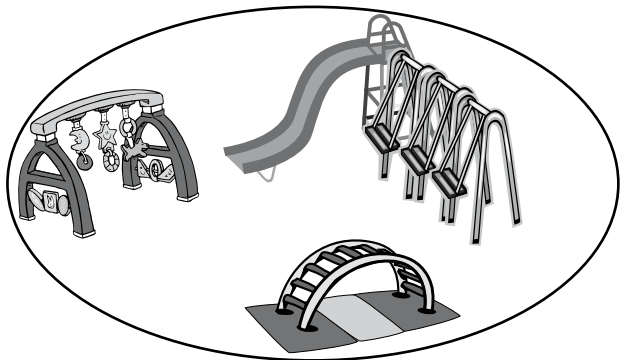
- A) ein Monat B) eine Woche
C) ein Tag D) eine Stunde

19. "kommen" fiilinin geçmiş hali (Partizip Perfekt) aşağıdakilerden hangisidir?

- A) kam B) kommt
C) kommst D) gekommen

20. soruyu resme göre cevaplayınız.

20. Wie heißt dieser Ort?



- A) Flughafen B) Krankenhaus
C) Schule D) Spielplatz

2. OTURUM

(707) FRANSIZCA – 7

1-18. sorularda boş bırakılan yere uygun gelen kelime ya da ifadeyi işaretleyiniz.

1. est libre cet après-midi.
A) le B) Tu C) Je D) Il
2. vas-tu à la bibliothèque?
A) Combien B) À quelle heure
C) Quel D) Ou
3. A: Vous avez des lunettes de soleil?
B: Non, je n'ai pas lunettes soleil.
A) les B) le C) des D) de
4. Je fais du tennis et du basket j'adore le sport.
A) parce que B) pourquoi
C) comment D) Quand
5. J'ai faim ; je prendre un sandwich.
A) allez B) vas C) vais D) aller
6. L'ascenseur ne marche pas, je dois monter chez moi
A) à pied B) en taxi
C) à vélo D) en train
7. Pierre habite Paris France.
A) en / à B) à / aux C) en / au D) à / en

8. A: Vous connaissez Zeynep?
B: Oui, je connais.
A) les B) la C) des D) le
9. A: Qu'est-ce que tu fais dans la vie?
B:
A) Je suis de Berlin B) Je suis chez moi
C) Je suis vétérinaire D) Je suis en vacances
10. Le week-end, ils allés au lac d'Abant.
A) ont B) sont C) êtes D) avez
11. Nous avons fait en avion.
A) un voyage B) une rue
C) un pilot D) un carrefour
12. Mme Thibaut : Bernadette, je n'ai plus de pain, tu peux aller?
Bernadette : D'accord, il faut autre chose?
Mme Thibaut : Oui, trois croissants pour le petit déjeuner.
A) à la pharmacie B) à la librairie
C) à la boulangerie D) à la mairie
13. Filiz mesure 1m 65. Sevim mesure 1m 65.
Sevim est grande que Filiz.
A) plus B) moins C) aussi D) pour

2. OTURUM

14. A: C'est la mère de Paul?
B: Oui, c'est mère.

A) son B) sa C) ses D) ton

15. L'addition, s'il vous plaît ! Je vous dois?

A) combien B) comme
C) rien D) personne

16-20. soruları resimleri dikkate alarak cevaplayınız.

16.



Il a et porte

- A) une grosse barbe / des lunettes
B) les yeux bleus / une casquette
C) un petit nez / une jolie jupe
D) de grandes dents / un pull


17.



Je partirai cette année en février.

- A) faire la cuisine B) pique-niquer
C) faire du ski D) faire de l'escalade

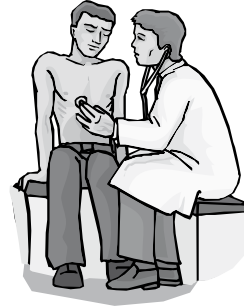
18.



Les enfants sortent de l'école

- A) à trois heures et demie
B) à trois heures
C) à trois heures dix
D) à trois heures et quart

19.



Il est

- A) médecin B) dentiste
C) ingénieur D) architecte

20.



Selon la météo, il la semaine prochaine à Antalya.

- A) pleuvra B) neigera
C) fera froid D) fera chaud

2. OTURUM

(708) DİN KÜL. VE AHLAK BİLGİSİ – 7

1. Melekler için aşağıdakilerden hangisi söylenmez?

- A) Cinsiyetleri yoktur.
- B) Günah işlemezler.
- C) Varlıkları akılla bilinir.
- D) Nurdan yaratılmışlardır.

2. Sihir ve büyü hakkında aşağıdakilerden hangisi yanlıştır?

- A) Haksız kazanç elde etmeye sebep olur.
- B) Toplumun önemli bir ihtiyacına cevap verir.
- C) Allah'tan başka varlıklardan yardım beklenir.
- D) Gelecekle ilgili insanlara bir takım bilgiler aktarılır.

3. “*Hani biz meleklerle, Adem’e secde edin, demiştik. İblis hariç hepsi secde etti. O, yüz çevirdi, büyüklük tasladı ve kafirlerden oldu.*”

(Bakara suresi, 94. ayet)

Bu ayete göre, iblisi küfre götüren davranış aşağıdakilerden hangisidir?

- A) Kibir
- B) Haset
- C) Kin
- D) Cehalet

4. Aşağıdakilerden hangisi Ahiret inancının insana sağladığı katkılardan biri olamaz?

- A) İnsanın ölümsüzlük isteğine cevap verir.
- B) İnsana yaratılışının bir amacı olduğunu fark ettirir.
- C) Kişinin hayatının anlamını ve önemini daha iyi kavramasına yardımcı olur.
- D) Bireyin dünya hayatını terk ederek daha çok ahirete çalışmasına vesile olur.

5. Aşağıdaki kavramlardan hangisi “öldükten sonra tekrar dirilme” anlamına gelir?

- A) Ba's
- B) Mizan
- C) Mahşer
- D) Kıyamet

6. I. Kul e'uzu birabbin nâs.
II. Melikin nâs.
III. İlahin nâs.
IV.
V. Ellezi yuvesvisü fî sudûrin nâs.
VI. Minel cinneti ven nâs.

Nas suresinde boş bırakılan yere aşağıdakilerden hangisi gelmelidir?

- A) Min şerri ma halek
- B) Ve yemneûnel mâûn
- C) Min şerril vesvâsil han nâs
- D) Ve min şerri hasidin iza hased

7. “*Kim hasta olur ya da yolculukta bulunursa tutamadığı günler sayısınca başka günlerde oruç tutsun. Allah sizin için kolaylık ister, güçlük istemez.*”

(Bakara suresi, 185. ayet)

Bu ayette, Ramazan orucunun hangi özelliğine değinilmektedir?

- A) Her Müslüman'a farz olmasına
- B) Süresinin bir ay olmasına
- C) İslam'ın beş şartından biri olmasına
- D) Tutulamadığında sonradan kaza edilmesine

8. Aşağıdakilerden hangisi orucun başlama vakitini ifade eder?

- A) Sahur
- B) İmsak
- C) İftar
- D) Teravih

9. Aşağıdakilerden hangisi Hz. Muhammed'in peygamberlik yönüyle ilgili değildir?

- A) Kur'an-ı Kerim'i insanlara tebliğ etmesi
- B) Mekke'de Hıfûl-Fudul toplantılarına katılması
- C) Kur'an'ın öğütlerini uygulamada insanlara öncülük etmesi
- D) İbadetlerin yapılış biçimlerini insanlara öğretmesi

10. Peygamberimize “Muhammedü'l-Emin” denilmesi aşağıdakilerden hangisiyle ilgili değildir?

- A) Emanetleri koruması
- B) Doğru sözlü olması
- C) Çevresine güven vermesi
- D) Zorluklar karşısında sabretmesi

2. OTURUM

11. “*Andolsun, size kendi içinizden öyle bir peygamber gelmiştir ki, sizin sıkıntıya uğramanız ona ağır gelir...*”

(Tevbe suresi, 128. ayet)

Bu ayette, Hz. Muhammed’in hangi yönüne işaret edilmiştir?

- A) Merhametli olmasına
B) Kur’an’ı açıklayıcı olmasına
C) Müjdeleyici olmasına
D) Son peygamber olmasına

12. Aşağıdakilerden hangisi İslam düşüncesinde Fikhî (ameli) yorumlardan biridir?

- A) Şiilik
B) Caferilik
C) Eşarilik
D) Maturidilik

13. İslam’ın tassavufi yorumu ile ilgili aşağıdakilerden hangisi söylenemez?

- A) Dinin ahlakla ilgili esasları üzerinde durur.
B) Allah’a gönülden bağlanmaya teşvik eder.
C) İslam’ın inanç esaslarını doğru biçimde öğretmeyi amaç edinir.
D) Saygı ve sevgi gibi değerlerin toplum içinde yayılmasına katkı sağlar.

14. Alevilik - Bektaşilik’te evli olan iki kişinin aileleriyle birlikte dedenin huzurunda kurban keserek hayat boyu “yol kardeşi” olmaya söz vermesine ne denir?

- A) Cem
B) Semah
C) Gülbenk
D) Musahiplik

15. Aşağıdakilerden hangisi paylaşma ile ilgili bir kavram değildir?

- A) İnfak
B) Tevazu
C) Sadaka-i cariye
D) Karz-ı hasen

16. Gelin tanış olalım,
İşi kolay kılalım,
Sevelim, sevinelim,
Dünya kimseye kalmaz.

Aşağıdakilerden hangisi bu şiirin ana düşüncesine uygun değildir?

- A) Gıybet ve iftira
B) Sevgi ve saygı
C) Şefkat ve merhamet
D) Hoşgörü ve bağışlama

17. “*Ey iman edenler! Kendi evleriniz dışındaki evlere, sahiplerinden izin isteyip onlara selam vermeden girmeyiniz...*”

(Nur suresi, 27. ayet)

Bu ayette üzerinde durulan konu aşağıdakilerden hangisinde doğru verilmiştir?

- A) Yardımlaşma
B) Görgü kuralları
C) Fedakârlık
D) Hak ve adalet

18. Aşağıdakilerden hangisi maddi kültüre örnektir?

- A) Fabrika
B) Sanat
C) Din
D) Örf

19. Aşağıdakilerden hangisi kültürümüzdeki dini motiflere en açık örnektir?

- A) Selamlaşma
B) Misafirperverlik
C) Hasta ziyareti
D) Mevlit okutma

20. Aşağıdakilerden hangisi laiklik anlayışı ile uyuşmaz?

- A) Başka inançlara hoşgörü olma
B) Din konusunda bireyleri özgür bırakma
C) İbadet konusunda insanlara kısıtlama getirme
D) Din ve devlet işlerini birbirlerinden ayrı olarak yürütme

2. OTURUM

(801) TÜRKÇE – 8

1. Aşağıdakilerin hangisinde zıt anlamlı sözcükler birlikte verilmemiştir?

- A) Bolluk - kıtlık B) Kirli - temiz
C) Anlam - mana D) Eksik - tamam

2. Aşağıdaki cümlelerin hangisinde altı çizili sözcük mecaz anlamıyla kullanılmamıştır?

- A) Yıllarca ablasının gölgesinde yaşadı.
B) Dışarıda serin bir yağmur çiseliyordu.
C) Etrafa ışık saçan aydınlık bir yüzü vardı.
D) Hiç akılda olmayan bir sıkıntı filiz verdi.

3. Aşağıdaki cümlelerin hangisinde “Olmayacak bir iş için boşuna çaba harcamak” anlamı taşıyan bir deyim vardır?

- A) Böyle akıntıya kürek çektiğine çok acıdım.
B) Ona laf anlatana kadar dilimde tüy bitti.
C) Gösterdiği bu samimiyet her düğümü çözer.
D) Bu kitap bizim dönemimizde elden ele dolaşıyordu.

4. Aşağıdaki cümlelerin hangisinde sebep - sonuç ilişkisi vardır?

- A) Bahçenin etrafını kalın bir duvarla çevirmişti.
B) Böyle bir havada dört saat yürüdük.
C) Tüm perdeler yeni alınan makede yıkandı.
D) Dikiş diktiği için eline biraz para geçmişti.

5. “Hastanedeydim. Hasan Bey’in beni görmek istediğini söylediler. Onu iyileşmiş, daha açılmış buldum. Beni görünce sevindi, ağlar gibi oldu. Odada bulunan Selime Hanım ile hasta bakıcı bizi yalnız bırakıp çıktılar.”

Bu metindeki altı çizili ifade, hikâyenin hangi ögesidir?

- A) Zaman B) Olay
C) Yer D) Ana karakter

6. Olmuş ya da olabilecek olayların gerçeğe uygun biçimde yer, zaman ve kişi unsurlarına bağlı olarak anlatıldığı uzun düz yazılara ne denir?

- A) Öykü B) Roman
C) Biyografi D) Deneme

7. Aşağıdaki cümlelerden hangisi öznel bir yargı bildirmektedir?

- A) Sen güldükçe daha güzel oluyorsun.
B) Yağmur yağdıktan sonra hava yeniden açtı.
C) Ders çalıştığım sırada kapının zili çaldı.
D) Okula gitmeden tüm ödevlerimi yaptım.

8. Tabiat güzelliklerini anlatan şiir türüne ne ad verilir?

- A) Epik B) Didaktik C) Pastoral D) Lirik

9. Rıhtımda uyuyan gemi
Hatırladın mı engini?
Sert dalgaları, yosunu,
Suların uğultusunu...

Bu şiirde, hangi varlığa insana ait özellikler yüklenmiştir?

- A) Rıhtım B) Gemi C) Dalga D) Yosun

10. Aşağıdakilerden hangisi “açıklayıcı anlatım”ın tanımıdır?

- A) Karşımızdakinin bir konu üzerinde duygu, düşünce ve davranışını etkileyip değiştirmek, istenilen şekle yöneltmek amacıyla kullanılan anlatım biçimine denir.
B) Görülen, bilinen, yaşanmış ya da yaşanabilecek olayları başkalarına anlatma şekline denir.
C) Herhangi bir konu hakkında bilgi vermek ya da bir şey öğretmek amacıyla yapılan anlatımlara denir.
D) Bir olayı, bir varlığı, bir kişiyi; karşısındakinin gözünde canlandırarak, gerekli izlenimleri uyandıracak biçimde yapılan anlatıma denir.

11. Aşağıdaki cümlelerin hangisinde nesne vardır?

- A) Tiyatronun en büyük gücü sözdendir.
B) Yeni aldığım çay fincanını kırdım.
C) Gemiler fırtına yüzünden limandan çıkamadılar.
D) Komşular dün akşam yazlıktan dönmüşler.

2. OTURUM

12. Birlikte kuvvet vardır,
Dermiş bize atalar,
Dostlar hep birleşirsek
Güçlükler bizden yılar.

Bu dörtlüğün ana duygusu aşağıdaki atasözlerinden hangisiyle ifade edilemez?

- A) Nerede birlik, orada dirlik.
B) Birlikten kuvvet doğar.
C) Bir elin nesi var, iki elin sesi var.
D) Biri bilmeyen bini hiç bilmez.

13. Kolay değil, yazarlık ciddi çalışmayı gerektirir. Sabahın beşinde o masaya otururum ben. Yazarım, bekletirim, düzeltirim; ondan sonra tekrar daktiloyla yazarım. Gerekirse bir kez daha onun üzerinde düzeltme yaparım. Fransız yazarlar da böyle çalışır. Bir romanını yedi kere, sekiz, dokuz kere yazan Fransız yazarı çok işittim.

Bu metindeki yazarla ilgili aşağıdakilerden hangisi söylenemez?

- A) Farklı yazarların eserlerini örnek aldığı
B) Genellikle günün ilk saatlerinde işe koyulduğu
C) Fransız yazarlarla ortak yönünün olduğu
D) Eserlerini titizlikle kaleme aldığı

14. Aşağıdakilerden hangisinde anlam kayması vardır?

- A) Biz bu olayı rastlantı sonucu sabah öğreniyoruz.
B) Telefona cevap vermediğine göre evden çıkmış olmalı.
C) Yaz tatilinden sonra bu mahalleden gideceğiz.
D) Sabahları çok erken saatlerde kahvaltı yapmayı severim.

15. Aşağıdakilerin hangisinde altı çizili ifade, cümlenin dolaylı tümlecidir?

- A) Türkiye'nin en kalabalık şehri İstanbul'dur.
B) Cebimizde beş kuruş para yoktu.
C) Manavdan aldığım elma bir kilo eksikti.
D) Hepiniz bir düş gibi karşımda duruyorsunuz.

16. Aşağıdaki altı çizili sözcüklerden hangisi sıfat - fiildir?

- A) İnanıp avunmak zorundaydı.
B) Arkadaşları gülümseyerek bakıyordu.
C) Bulduğu çantayı karakola teslim etti.
D) Gün geçtikçe çevresindekilere alışiyordu.

17. Aşağıdakilerin hangisinde geçişli bir fiil kullanılmıştır?

- A) Akşama kadar çarşıda oyalandık.
B) Dünkü açık oturma iki saat sürdü.
C) O gün vakit çok hızlı geçmişti.
D) Pazar günü güzel bir film izlemiştik.

18. "Onunla ilk kez bir arkadaş toplantısında tanışmıştık."

Bu cümledeki anlatım bozukluğu aşağıdakilerden hangisi yapılarak düzeltilir?

- A) "ilk kez" sözcük grubu cümleden çıkartılarak
B) "bir arkadaş" sözcük grubu cümleden çıkartılarak
C) "onunla" sözcüğü yerine "seninle" sözcüğü getirilerek
D) "onunla" sözcüğü "tanışmıştık" sözcüğünden önce getirilerek

19. Aşağıdaki altı çizili kelimelerin hangisinde ünsüz yumuşaması vardır?

- A) Seni gözleyen birisi varsa mesele yoktur.
B) Ucu bucağı görünmeyen bir ovada yol alıyorduk.
C) Bize iyice alıştı, artık gitmek istemiyor.
D) Bu çocuk bizden bir şeyler saklıyor.

20. Durumunuzu () uygun bir zaman bulabilirsem () müdüre anlatacağım ()

Bu cümlede yay ayraçla belirtilen yerlere, sırasıyla aşağıdaki noktalama işaretlerinden hangileri getirilmelidir?

- A) (;) (,) (.) B) (,) (;) (!)
C) (,) (,) (...) D) (-) (-) (.)

2. OTURUM

(802) MATEMATİK – 8

1. Aşağıdakilerden hangisi pozitif bir sayıdır?

- A) $-(-5)^5$ B) $-(-5)^4$
C) -5^{-2} D) $(-5)^{-3}$

2. $\frac{\sqrt{72}}{\sqrt{8}}$ işleminin sonucu kaçtır?

- A) 3 B) $\sqrt{66}$ C) 9 D) $9\sqrt{2}$

3. $\sqrt{0,0016}$ sayısı aşağıdakilerden hangisine eşittir?

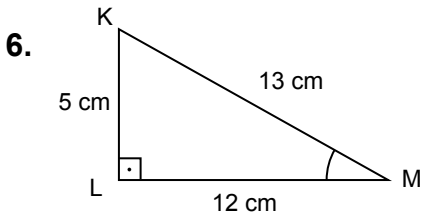
- A) 0,4 B) 0,8 C) 0,04 D) 0,08

4. Aşağıdakilerden hangisi irrasyonel sayı değildir?

- A) π B) $\sqrt{121}$ C) $\sqrt{19}$ D) $\sqrt{47}$

5. Aşağıdakilerden hangisinde verilenler bir üçgenin kenar uzunlukları olamaz?

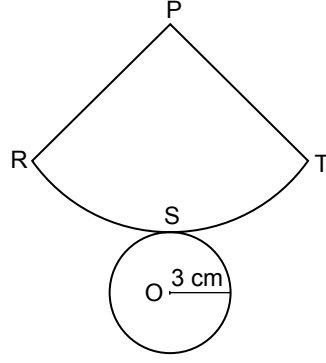
- A) 1 cm, 6 cm, 4 cm B) 4 cm, 4 cm, 3 cm
C) 8 cm, 5 cm, 4 cm D) 7 cm, 7 cm, 7 cm



Verilen üçgende $m(\widehat{KLM}) = 90^\circ$ dir.
 $|KL| = 5$ cm, $|LM| = 12$ cm ve $|KM| = 13$ cm olduğuna göre, $\cos \widehat{M}$ nedir?

- A) $\frac{5}{13}$ B) $\frac{12}{13}$ C) $\frac{13}{5}$ D) $\frac{13}{12}$

7.



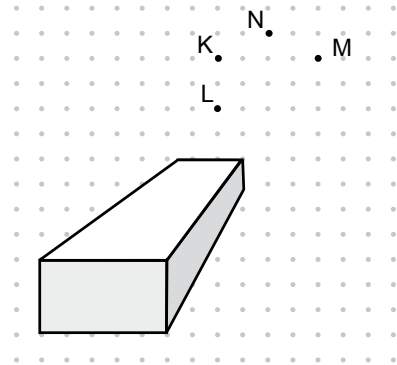
Yukarıda bir dik koninin açılımı verilmiştir. Bu koninin tabanının yarıçapı 3 cm olduğuna göre, RST yayının uzunluğu kaç santimetredir? (π 'yi 3 alınız.)

- A) 9 B) 12 C) 15 D) 18

8. Koordinat düzleminde $K(-3, -7)$ noktası, saat yönünün tersi yönünde orijin etrafında 270° döndürülürse aşağıdaki noktalardan hangisi elde edilir?

- A) $T(3, -7)$ B) $P(-7, 3)$
C) $S(3, 7)$ D) $Y(7, -3)$

9.

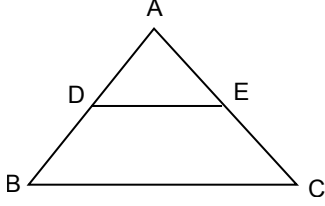


Aşağıdaki noktalardan hangisi yukarıdaki cismin perspektif çizimine ait kaybolunan noktadır?

- A) K B) L C) N D) M

2. OTURUM

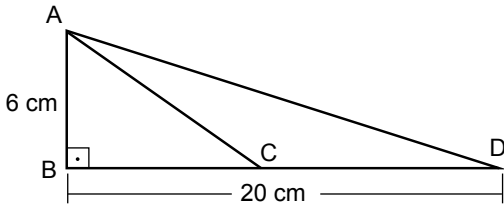
10.



Yukarıda verilen şekilde $[DE] \parallel [BC]$ 'dir.
 $|AD| = 3$ cm, $|DB| = 4$ cm ve $|EC| = 8$ cm
 olduğuna göre, $|AC|$ kaç santimetredir?

- A) 12 B) 14 C) 15 D) 17

11.



Yukarıda verilen ACD üçgeninin alanı 36 cm^2 dir.
 $|AB| = 6$ cm ve $|BD| = 20$ cm olduğuna göre,
 $|AC|$ kaç santimetredir?

- A) 12 B) 10 C) 8 D) 6

12. Taban ayrıtlarından birinin uzunluğu 4 cm ve yüksekliği 9 cm olan kare dik piramidin hacmi kaç santimetreküptür?

- A) 12 B) 24 C) 48 D) 56

13. Küre şeklindeki bir portakal ortadan kesilerek iki eş parçaya ayrılıyor. Yarıçapının uzunluğu 6 cm olan bu portakaldan ayrılan her bir parçanın yüzey alanı kaç santimetrekaredir? (π 'yi 3 alınız.)

- A) 108 B) 216 C) 324 D) 432

14. 6 kişi arasından 4 kişi kaç farklı şekilde seçilir?

- A) 10 B) 12 C) 15 D) 20

15. Bir torbada bulunan aynı nitelikteki 12 toptan 5'i mavi, geri kalanı beyaz renktedir. Torbaya geri atılmadan rastgele çekilen 2 topun da beyaz renkli olma olasılığı nedir?

- A) $\frac{13}{24}$ B) $\frac{13}{23}$ C) $\frac{7}{24}$ D) $\frac{7}{22}$

16. $\frac{x^2 + 2x + 1}{x^2 - 1}$ ifadesinin en sade biçimi aşağıdakilerden hangisidir?

- A) x B) x + 1 C) x - 1 D) $\frac{x+1}{x-1}$

17. $\frac{x+2}{x+1} = 4$ denkleminin çözüm kümesi aşağıdakilerden hangisidir?

- A) $\left\{-\frac{3}{2}\right\}$ B) $\left\{-\frac{2}{3}\right\}$ C) $\left\{\frac{3}{2}\right\}$ D) $\left\{\frac{2}{3}\right\}$

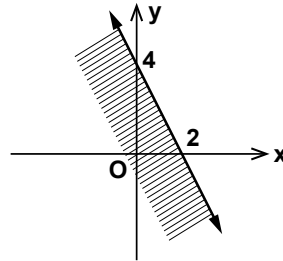
18. İki sayının toplamı 9, farkları ise 3'tür. Bu sayıların kareleri toplamı kaçtır?

- A) 45 B) 36 C) 24 D) 12

19. "3 katının 7 eksiği 15'ten büyük olan sayılar" ifadesinin belirttiği eşitsizlik aşağıdakilerden hangisidir?

- A) $3x > 8$ B) $3x + 7 > 15$
 C) $-7x + 15 > 3$ D) $3x - 7 > 15$

20.



Yukarıda çözüm kümesi taralı olarak verilen grafiğe uygun eşitsizlik aşağıdakilerden hangisidir?

- A) $4x + 2y \geq 0$ B) $2x + 4y \leq 0$
 C) $2x + y \leq 4$ D) $x + y \geq 4$


2. OTURUM


(803) FEN VE TEKNOLOJİ – 8


1. Yoğunlukları tabloda verilen sıvılardan eşit miktarda alınıp bir kaba konuluyor.


Sıvı	Yoğunluk (g/cm ³)
Su	1
Zeytinyağı	0,92
Gliserin	1,26

Sıvılar birbirine karışmadığına göre, bu sıvıların kaptaki denge durumları aşağıdakilerin hangisinde doğru verilmiştir?

A) 

B) 

C) 

D) 

2. Bir kap içindeki sıvının, kabın bir noktasına uyguladığı sıvı basıncı;

I. Sıvı yoğunluğu

II. Sıvı derinliği

III. Kap şekli

faktörlerinden hangilerine bağlıdır?

- A) Yalnız II
B) Yalnız III
C) I ve II
D) I, II ve III

3. Aşağıdaki araçlardan hangisinde hareket enerjisi, elektrik enerjisine dönüşür?

- A) Elektrik motoru
B) Elektromıknatıs
C) Jeneratör
D) Bobin

4. Bazı araçların elektriksel güç değerleri tabloda verilmiştir.

Fırın	Ütü	Televizyon	Mikser
2,5 kW	1 kW	150 W	400 W


Bu araçlar 1 saat çalıştırdıklarında, hangisinin harcadığı elektrik enerjisi miktarı en fazla olur?

- A) Fırın
B) Ütü
C) Televizyon
D) Mikser


5. Şimşek olayında önce ışık görülür sonra da gök gürleme sesi duyulur. Öğrencilerin bu olayın sebebi ile ilgili olarak yaptığı aşağıdaki yorumlardan hangisi doğrudur?

A)  Ses, ışıktan daha hızlı yayılır.


Hülya

B)  Ses boşlukta yayılmaz.

Ali

C)  Ortam yoğunluğu arttıkça, ışık hızı azalır.

Mehmet

D)  Işık, sestten daha hızlı yayılır.

Fatma

6. Aylin, radyoda dinlediği müziğin sesini açtığında, hoparlörden çıkan ses dalgasının aşağıda verilen özelliklerinden hangisi değişir?

- A) Şiddeti
B) Yüksekliği
C) Tınısı
D) Frekansı

7. • Ana depremde hemen önce meydana gelen ufak sarsıntılara ★ denir.

- Depremde binalar üzerinde meydana getirdiği hasarın derecesine ◆ denir.

Buna göre, verilen tanımlarda ★ ve ◆ yerine aşağıdakilerin hangisinde verilenler yazılmalıdır?

- ★ ◆
- A) artçı deprem depremin şiddeti
B) öncü deprem depremin şiddeti
C) artçı deprem depremin büyüklüğü
D) öncü deprem depremin büyüklüğü

8. Sıcak hava alanlarında, hızlı bir şekilde kendi eksenini etrafında dönen rüzgarların en büyüğü ve en kuvvetlisine ne ad verilir?

- A) Fırtına
B) Hortum
C) Bora
D) Kasırga

2. OTURUM

9. Elif, bir elementin kullanım alanlarını şekildeki gibi karta yazmıştır.

?

Bu element,

- Isıya dayanıklı cam imalatında
- Füze yakıtlarında
- Deterjan yapımında kullanılır.

Buna göre kart üzerinde “?” ile gösterilen bölüme, aşağıdaki elementlerden hangisini yazmalıdır?

- A) Azot B) Bor C) Lityum D) Helyum


10. Cl^- iyonu ile ilgili aşağıda verilen bilgilerden hangisi doğrudur?

- A) Metaldir.
B) Bir elektron vermiştir.
C) Na^+ iyonu ile iyonik bağ yapar.
D) Periyodik tabloda 1. grupta bulunur.

11. $Mg(NO_3)_2$ bileşiğinin formülündeki element atomlarının toplam sayısı aşağıdakilerden hangisidir?

- A) 9 B) 7 C) 5 D) 3

12. Öğrencilerin, pH değeri 14 olan madde ile ilgili aşağıda yaptıkları yorumlardan hangisi yanlıştır?

A)  Sulu çözeltileri elektrik akımını iletir.
Emel

B)  Asitlerle nötralleşme tepkimesi verir.
Merve

C)  Kırmızı turnusol kağıdının rengini maviye çevirir.
Murat

D)  Suda çözüldüğünde H^+ iyonu verir.
Tarık

13. $0^\circ C$ 'ta 100 gram buzun, erime sıcaklığında tamamen suya dönüşmesi için verilmesi gereken ısı miktarı kaç joule'dür?
(Buzun erime ısısı (L_e)= 334,4 J/g)

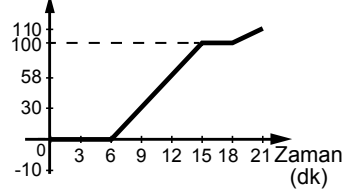
- A) 334400 B) 33440
C) 3344 D) 334,4

14. Sabit ısı veren bir kaynak ile sürekli ısıtılan maddeye ait sıcaklık - zaman değerleri tabloda verilmiştir.

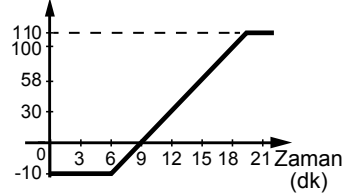
Sıcaklık ($^\circ C$)	-10	0	0	30	58	100	100	110
Zaman (dk)	0	3	6	9	12	15	18	21

- Buna göre, maddeye ait sıcaklık - zaman grafiği aşağıdakilerden hangisidir?

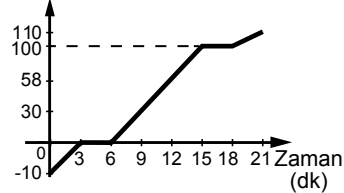
- A) Sıcaklık ($^\circ C$)



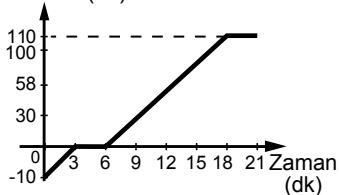
- B) Sıcaklık ($^\circ C$)



- C) Sıcaklık ($^\circ C$)



- D) Sıcaklık ($^\circ C$)

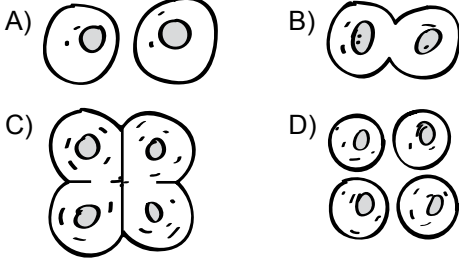


2. OTURUM

15.



Şekilde 2. mayoz hücre bölünmesindeki evrelerden biri verilmiştir. Buna göre 2. mayozdaki bu evreden hemen sonra aşağıdakilerden hangisi gerçekleşir?



16. Biri kahverengi tüylü, diğeri homozigot siyah tüylü iki fare çaprazlanıyor. Sonuçta elde edilen yavruların tüy rengi bakımından fenotip oranı ne olur? (Siyah tüy rengi baskın, kahverengi tüy rengi çekinik özelliktir.)

- A) Tamamı siyah tüylü
B) Tamamı kahverengi tüylü
C) % 50 siyah, % 50 kahverengi tüylü
D) % 75 siyah, % 25 kahverengi tüylü

17. DNA'nın birinci zincirindeki bazların sırası T G A A C şeklindedir. Buna göre, bunlara karşılık gelen ikinci zincirdeki baz sırası aşağıdakilerden hangisi gibidir?

- A) C T G G A B) A C T T G
C) G A C C T D) T G A A C

18. Tuz çalısı adı verilen bitkinin çok derinlere giden kökleri vardır. Bu bitki suyu derinlerde tutan toprakta daha iyi gelişir, ancak suyu yüzeyinde tutan toprakta gelişemez.

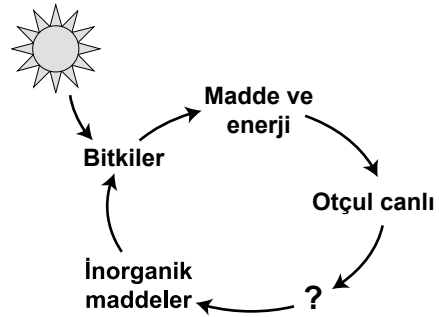
Bu durum aşağıdakilerden hangisine örnek oluşturur?

- A) Adaptasyon B) Modifikasyon
C) Mutasyon D) Rejenerasyon

19. Yenilenemez enerji kaynaklarından olan fosil yakıtların, tasarruflu kullanılması için aşağıdakilerden hangisinin yapılması yanlış olur?

- A) Ekonomik olacak şekilde yenilenebilir enerji kaynakları kullanma
B) Kışın binalardaki ısı kaybını önleyici tedbirler alma
C) Verimi düşük motorlu taşıt kullanma
D) Isıtma sistemlerinin verimini artırma

20.



Yukarıda madde döngüsünü ifade eden bir şema verilmiştir. Bu şemada “?” yerine aşağıdakilerden hangisi yazılmalıdır?

- A) Solunum B) Fotosentez
C) Üreticiler D) Ayrıştırıcılar

TEST BİTTİ.
CEVAPLARINIZI KONTROL EDİNİZ.

SINAV SÜRESİNCE UYULACAK KURALLAR

1. Adaylar, sınav kurallarına ve salon görevlilerinin tüm uyarılarına uymak zorundadırlar. Kurallara ve uyarılara uymayan adayların sınavları geçersiz sayılacaktır.
2. Sınav başladıktan sonra adayların salon görevlileri ve birbirleri ile konuşmaları, kalem, silgi vb. şeyleri istemeleri yasaktır.
3. Adaylar sınav süresince, sınav giriş belgesi ile birlikte kimlik belgelerinden birini (nüfus cüzdanı, pasaport veya sürücü belgesi) masalarının üzerinde bulundurmamak zorundadırlar.
4. Sınav evraklarını teslim etmeyen, soru kitapçıklarının sayfalarından bir kısmını eksik teslim edenlerin sınavları geçersiz sayılacaktır.

SALON GÖREVLİLERİNCE SINAV BAŞLAMADAN ÖNCE ADAYLARA YAPILACAK SON UYARI

- Soracağınız bir şey var mı? Varsa, şimdi sorunuz.
- Sınav başladıktan sonra sorularınıza cevap verilmeyecektir.
- Başlama zilini bekleyiniz.
- Hepinize başarılar dileriz.

(Salon başkanı başlama ve bitiş saatini tahtaya yazacaktır.)

Bu kitapçığın her hakkı saklıdır. Hangi amaçla olursa olsun, kitapçığın tamamının veya bir kısmının Millî Eğitim Bakanlığı Ölçme, Değerlendirme ve Sınav Hizmetleri Genel Müdürlüğünün yazılı izni olmadan kopya edilmesi, fotoğraflarının çekilmesi, bilgisayar ortamına alınması, herhangi bir yolla çoğaltılması, yayımlanması veya başka bir amaçla kullanılması yasaktır. Bu yasağa uymayanlar, doğabilecek cezai sorumluluğu ve kitapçığın hazırlanmasındaki mali külfeti peşinen kabullenmiş sayılır.

**22 MART 2015 TARİHİNDE YAPILAN
AÇIK ÖĞRETİM ORTAOKULU 2014-2015 ÖĞRETİM YILI 2. DÖNEM SINAVI
2. OTURUM CEVAP ANAHTARI**

SOSYAL BİLGİLER – 7

1. C
2. B
3. D
4. D
5. A
6. A
7. C
8. C
9. D
10. B
11. D
12. A
13. B
14. C
15. C
16. A
17. D
18. B
19. D
20. A

ALMANCA – 7

1. A
2. C
3. D
4. C
5. D
6. B
7. A
8. B
9. A
10. C
11. D
12. A
13. B
14. D
15. C
16. B
17. A
18. B
19. D
20. D

**DİN KÜLTÜRÜ ve AHLAK
BİLGİSİ – 7**

1. C
2. B
3. A
4. D
5. A
6. C
7. D
8. B
9. B
10. D
11. A
12. C
13. C
14. D
15. B
16. A
17. B
18. A
19. D
20. C

MATEMATİK – 8

1. A
2. A
3. C
4. B
5. A
6. B
7. D
8. B
9. D
10. B
11. B
12. C
13. C
14. C
15. D
16. D
17. B
18. A
19. D
20. C

İNGİLİZCE – 7

1. C
2. B
3. D
4. C
5. A
6. D
7. B
8. B
9. C
10. D
11. A
12. D
13. B
14. A
15. C
16. C
17. A
18. B
19. D
20. C

FRANSIZCA – 7

1. D
2. B
3. D
4. A
5. C
6. A
7. D
8. B
9. C
10. B
11. A
12. C
13. C
14. B
15. A
16. A
17. C
18. B
19. A
20. A

TÜRKÇE – 8

1. C
2. B
3. A
4. D
5. C
6. B
7. A
8. C
9. B
10. C
11. B
12. D
13. A
14. A
15. D
16. C
17. D
18. A
19. B
20. D

FEN ve TEKNOLOJİ – 8

1. B
2. C
3. C
4. A
5. D
6. A
7. B
8. D
9. B
10. C
11. A
12. D
13. B
14. C
15. C
16. A
17. B
18. A
19. C
20. D

22 MART 2015 TARİHİNDE YAPILAN
AÇIK ÖĞRETİM ORTAOKULU 2014-2015 ÖĞRETİM YILI 2. DÖNEM SINAVI
2. OTURUM CEVAP ANAHTARI

SOSYAL BİLGİLER – 5

1. D
2. D
3. A
4. B
5. C
6. C
7. B
8. D
9. B
10. C
11. A
12. C
13. B
14. C
15. B
16. D
17. A
18. B
19. C
20. A

ALMANCA – 5

1. B
2. D
3. A
4. C
5. A
6. C
7. B
8. C
9. B
10. A
11. C
12. D
13. B
14. C
15. A
16. B
17. D
18. A
19. D
20. C

DİN KÜLTÜRÜ ve AHLAK
BİLGİSİ – 5

1. D
2. A
3. C
4. B
5. A
6. C
7. B
8. D
9. A
10. C
11. D
12. D
13. B
14. D
15. B
16. A
17. C
18. A
19. B
20. A

MATEMATİK – 6

1. D
2. B
3. B
4. A
5. C
6. C
7. B
8. C
9. B
10. D
11. D
12. B
13. A
14. D
15. C
16. D
17. C
18. A
19. A
20. B

İNGİLİZCE – 5

1. B
2. D
3. C
4. D
5. B
6. A
7. A
8. C
9. D
10. B
11. A
12. C
13. D
14. B
15. D
16. A
17. C
18. B
19. B
20. A

FRANSIZCA – 5

1. B
2. B
3. A
4. D
5. A
6. D
7. A
8. C
9. B
10. C
11. B
12. D
13. A
14. D
15. C
16. A
17. C
18. B
19. C
20. D

TÜRKÇE – 6

1. D
2. A
3. C
4. C
5. B
6. A
7. B
8. C
9. D
10. B
11. C
12. D
13. A
14. B
15. D
16. A
17. C
18. A
19. B
20. D

FEN ve TEKNOLOJİ – 6

1. A
2. C
3. B
4. D
5. C
6. D
7. A
8. C
9. D
10. B
11. C
12. A
13. D
14. C
15. C
16. A
17. B
18. B
19. D
20. A